

1 «Безопасная дистанция» - это расстояние:

1. Между боковыми частями движущихся транспортных средств, при котором гарантирована безопасность дорожного движения.
2. До транспортного средства, движущегося впереди, равное 30-50 метрам.
3. До транспортного средства, движущегося впереди, по той же полосе, которое в случае его внезапного торможения или остановки позволит водителю транспортного средства, движущемуся сзади, предотвратить столкновение без выполнения какого-либо маневра.

1.10

2 Водитель какого транспортного средства должен уступить дорогу при перестроении?



1. Водитель легкового автомобиля.
2. Водитель грузового автомобиля.

10.3

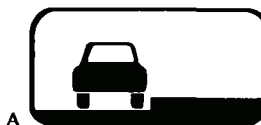
3 Указанный дорожный знак запрещает движение:



1. Всех механических транспортных средств, за исключением мотоциклов без бокового прицепа.
2. Только легковых автомобилей.
3. Всех механических транспортных средств, за исключением маршрутных транспортных средств; обслуживающих предприятий, находящихся в обозначенной зоне, а также обслуживающих или принадлежащих гражданам, проживающим или работающим в обозначенной зоне.

3.2
Прил. № 1


4 При установке какой таблички со знаком «Место для стоянки» разрешается поставить грузовой автомобиль на стоянку?



1. Табличка А.
2. Табличка Б.
3. Таблички А и Б.
4. Обе таблички запрещают стоянку грузового автомобиля.

7.6.1, 7.6.2
Прил. № 1

5 В каких направлениях разрешается движение грузового автомобиля с разрешенной максимальной массой менее 3,5 т?



1. Только налево.
2. Только прямо.
3. Только направо.
4. Во всех направлениях.
5. Налево и направо.

4.11, 7.3.3
Прил. № 1

6 Такая прерывистая линия, у которой длина штрихов в три раза превышает промежутки между ними, обозначает:



1. Край проезжей части на автомагистралях, где разрешена остановка.
2. Приближение к сплошной линии разметки, которая разделяет транспортные потоки противоположных или попутных направлений.

1.6
Прил. № 2

7 Каким транспортным средствам разрешается повернуть направо?



1. Только красному автомобилю.
2. Всем транспортным средствам.
3. Красному и зеленому автомобилям.


8.8
«Б»

8 Если Вы выехали для обгона впереди идущего автомобиля, то в какой из перечисленных ситуаций наиболее целесообразно подать звуковой сигнал для предотвращения дорожно-транспортного происшествия?

1. Обгон совершается в ночное время.
2. Водитель обгоняемого автомобиля начал притормаживать.
3. Водитель обгоняемого автомобиля включил указатель левого поворота.
4. Водитель обгоняемого автомобиля включил указатель правого поворота.

9.5

9 Разрешается ли водителю красного автомобиля двигаться, занимая одновременно две полосы?



1. Разрешается, если обе полосы свободны.
2. Запрещается. Наезжать на прерывистые линии разметки разрешается только при перестроении.

11.10

10 С какой максимальной скоростью разрешается движение легковых автомобилей на участках дорог, обозначенных таким дорожным знаком?



1. 70 км/ч.
2. 80 км/ч.
3. 90 км/ч.
4. 100 км/ч.
5. 130 км/ч.

12.6
«Г»

11 В каком порядке проедут перекресток транспортные средства?



1. Красный, синий, желтый, зеленый.
2. Желтый, зеленый, красный, синий.
3. Красный, зеленый, синий, желтый.

16.11
16.13

12 Автомобили проедут перекресток в следующем порядке:



1. Желтый въедет на перекресток и остановится, чтобы уступить дорогу зеленому; зеленый, синий, красный, желтый.
2. Синий, красный, зеленый, желтый.
3. Зеленый, синий, красный, желтый.

16.12

13 Где могут находиться пассажиры при буксировке автомобилей путем частичной погрузки?

1. В кабине обоих автомобилей.
2. В кабине буксирующего автомобиля.
3. В кабине буксируемого автомобиля.
4. В кузове буксирующего автомобиля.

23.9

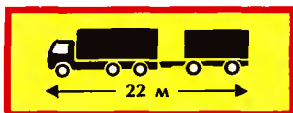
14 Разрешена ли остановка в этом месте на проезжей части с односторонним движением?



1. Разрешена.
2. Запрещена.

15.3

15 Таким опознавательным знаком обозначается транспортное средство:



1. Перевозящее тяжеловесные и крупногабаритные грузы.
2. Транспортное средство, длина которого с грузом или без груза более 22 м.
3. Перевозящее людей в кузове-фургоне.

30.3
«Г»

16 Водитель какого транспортного средства должен уступить дорогу?



1. Вы.
2. Водитель встречного автомобиля.
3. Вы не должны уступать дорогу, так как выполняете неотложное служебное задание.

13.4

17 Разрешается ли установка шин с разным рисунком протектора на одну ось транспортного средства?

1. Разрешается только на заднюю ось переднеприводного автомобиля.
2. Запрещается.
3. Разрешается только на грузовой автомобиль.
4. Разрешается.

31.4.5
"Г"

18 Какой из указанных автомобилей наиболее устойчив против опрокидывания?



1. Автобус, при наличии в нем стоящих пассажиров.
2. Автокран.
3. Порожний грузовой автомобиль.

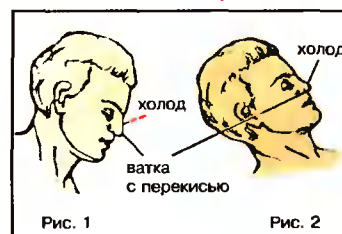
ОБД

19 Какая административная ответственность водителей предусмотрена за превышение установленных ограничений скорости движения более чем на 20 км/ч:

1. Штраф в размере 17—34 грн.
2. Лишение права управления транспортными средствами сроком от 3-х до 6 месяцев.
3. Предупреждение или штраф в размере 8,5—17 грн.

Ст.122
ч.1

20 На каком из рисунков наиболее правильно показан метод остановки кровотечения из носа:



1. На рисунках 1 и 2.
2. Только на рисунке 2.
3. Только на рисунке 1.

Перед оказанием помощи вымойте свои руки водой, спиртовым раствором или неэтилированным бензином!!

М.Буянов
стр.97

1 Что должен предпринять водитель красного автомобиля при приближении транспортного средства, подающего специальный звуковой и световой сигналы?



1. Остановиться, не меняя полосу движения, и включить аварийную световую сигнализацию.
2. Снизить скорость и продолжать движение, избегая резких маневров, связанных с перестроением.
3. Уступить дорогу.

3.2

2 Как должен поступить пешеход при приближении транспортного средства с включенным проблесковым маячком красного и синего цвета и специальным звуковым сигналом?

1. Как можно скорее перейти проезжую часть.
2. Воздержаться от перехода проезжей части или немедленно покинуть ее.
3. Перейти проезжую часть, если он находится на пешеходном переходе.

4.14


3 Каким транспортным средствам разрешено движение по дороге, на которой установлен этот знак?



1. Механическим транспортным средствам.
2. Всем транспортным средствам.
3. Автомобилям, автобусам, и мотоциклам.
4. Транспортным средствам, максимальная скорость которых не менее 40 км/ч.

5.3
Прил. № 1

4 Какой знак запрещает движение транспортных средств, габаритная длина которых больше указанной на знаке?



3.19
Прил. № 1

5 В каких направлениях, обозначенных стрелками, разрешено движение?



1. А.
2. Б.
3. А и Б.

5.26
Прил. № 1

6 Такая дорожная разметка применяется для обозначения:



1. Дорожной развязки в разных уровнях.
2. Участка дороги, на котором скорость движения ограничена до 40 км/ч.
3. Вертикальных элементов дорожных сооружений.

2.1
Прил. № 2

7 В каком ответе названы транспортные средства, которым разрешено движение?



1. Мотоцикл.
2. Грузовой автомобиль.
3. Автобус.
4. Легковой автомобиль.
5. Легковой и грузовой автомобили.

8.8
«А»

8 В каком из перечисленных случаев не требуется включение ближнего света фар для обозначения транспортного средства в светлое время суток?

1. При перевозке организованных групп детей в автобусах.
2. При движении в организованной колонне.
3. При буксировке механического транспортного средства, или необезвреженной тары из-под них.
4. При перевозке крупногабаритных и тяжеловесных грузов, или необезвреженной тары из-под них.
5. При следовании неисправного транспортного средства к месту его стоянки или ремонта.

9.8

9 Разрешен ли водителю легкового автомобиля выезд на крайнюю левую полосу на дороге с односторонним движением? Мотоциклист движется по второй полосе.



1. Разрешен.
2. Разрешен только в том случае, если скорость мотоцикла менее 30 км/ч.
3. Запрещен.

11.6

10 С какой максимальной скоростью разрешается движение легковым автомобилям в зоне, обозначенной данным знаком?



1. 10 км/ч.
2. 15 км/ч.
3. 20 км/ч.
4. 30 км/ч.
5. По усмотрению водителя, обеспечив безопасность движения.

12.5



11 Водитель какого транспортного средства должен уступить дорогу?



1. Водитель мотоцикла.
2. Водитель грузового автомобиля.

16.12

12 Вторым проедет перекресток:



1. Синий автомобиль.
2. Зеленый автомобиль.
3. Красный автомобиль.
4. Желтый автомобиль.

16.11
16.13

13 В зависимости от каких факторов выбирается метод буксировки механического транспортного средства?

1. В зависимости от фактического наличия буксира.
2. В зависимости от технической неисправности буксируемого транспортного средства.
3. По усмотрению участвующих в буксировке водителей транспортных средств.
4. В зависимости от факторов, указанных в ответах № 1 и 3.

23.4

14 Водитель какого транспортного средства не нарушил правила остановки?



1. Оба нарушили.
2. Только водитель автомобиля.
3. Только водитель мотоцикла.
4. Никто не нарушил.

17.2,
15.9 «Е»

15 Где разрешается пересекать железнодорожные пути?

1. В местах, где видимость в обоих направлениях не менее 1000 м.
2. В местах, наиболее удобных с точки зрения водителя.
3. На железнодорожных переездах.
4. Не ближе 1000 м от железнодорожной станции.

20.1

16 Водитель должен соблюдать безопасную дистанцию:

1. Только в зависимости от скорости движения и дорожной обстановки.
2. Только в зависимости от особенности перевозимого груза и состояния транспортного средства.
3. В зависимости от условий, перечисленных в ответах 1 и 2.
4. Только во время стоянки на площадке, обозначенной дорожным знаком "Место отдыха".

13.1


17 При какой неисправности запрещается дальнейшее движение транспортных средств?

1. Не работают предусмотренные конструкцией транспортных средств стеклоомыватели.
2. Не работают в установленном режиме стеклоочистители со стороны пассажира.
3. Не действует стеклоочиститель со стороны расположения руля в дождь или снегопад.
4. При неисправностях, указанных в ответах 2 и 3.

31.6

18 Какой прием торможения обеспечивает безопасную остановку транспортного средства на скользкой дороге для заднеприводного автомобиля?

1. Резкое нажатие на педаль тормоза без выключения сцепления.
2. Многократное прерывистое нажатие и отпускание педали тормоза без выключения сцепления.
3. Торможение с выключенным сцеплением.



ОБД

19 Какая административная ответственность водителей предусмотрена за нарушение пользования ремнями безопасности или мотошлемами?

1. Штраф в размере 8,5 — 17 грн.
2. Предупреждение или штраф в размере 3,4 — 8,5 грн.
3. Предупреждение.

Ст.121,
ч.3

20 На каком рисунке наиболее правильно показан метод остановки кровотечения из раны:

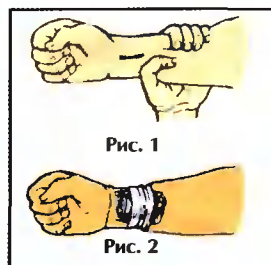


Рис. 1

Рис. 2

1. На рисунках 1 и 2.
2. На рисунке 1.
3. На рисунке 2.

Перед оказанием помощи вымойте свои руки водой, спиртовым раствором или неэтиловым бензином!!!

М. Буянов
стр.93



1 Автомобиль оборудован ремнями безопасности. В каких случаях разрешается не пристегиваться ими?

1. Разрешается не пристегиваться лицу, обучающему управлению, если за рулем ученик, а в населенных пунктах, кроме того, водителям-инвалидам, водителям и пассажирам транспортных средств оперативных и специальных служб и такси.
2. Если автомобиль движется со скоростью не более 40 км/ч.
3. При перевозке работников государственной лесной охраны (в форменной одежде), направляющихся к местам лесных пожаров.

2.2 «В»

2 Разворот запрещается:

1. Только на пешеходных переходах и ближе 10 м от них с обеих сторон, кроме случая разрешенного разворота на перекрестке.
2. Только в тоннелях.
3. Только на мостах, путепроводах, эстакадах и под ними.
4. Только на железнодорожных переездах.
5. Во всех перечисленных местах.

10.7

3 В зоне отдыха, обозначенной данным знаком:



1. Разрешается движение транспортных средств со скоростью до 50 км/ч.
2. Запрещается транзитное движение транспортных средств.
3. Запрещается стоянка транспортных средств более 50 мин.

3.31
Прил. № 1

4 Какой знак разрешает разворот?



1



2



3



4



5

3.23
Прил. № 1

5 В каком направлении разрешено движение?



1. Только прямо.
2. Только прямо и направо.
3. Прямо, направо и налево.
4. Во всех направлениях.

5.5
Прил. № 1

6 Разрешается ли Вам обогнать велосипедиста?



1. Разрешается.
2. Запрещается.

1.11
Прил. № 2

7 По каким направлениям разрешено движение транспортных средств?




1. Трамвай налево или прямо.
2. Только автомобиль налево.
3. Только трамвай налево.
4. Трамвай налево или прямо, автомобиль после трамвая.
5. Трамвай налево, автомобиль налево и в обратном направлении.

8.8
«Б»

8 На каком рисунке водитель подает сигнал предупреждения о повороте налево?



1



2



3

9.3

9 Когда разрешается транспортному средству, скорость движения которого не превышает 40 км/час, выезжать на левую полосу проезжей части?

1. Только при обгоне, опережении или объезде.
2. Только при перестроении перед поворотом налево или разворотом.
3. Во всех выше перечисленных случаях.
4. Во всех перечисленных случаях, а также если имеется три полосы и более для движения в одном направлении.

11.7

10 С какой максимальной скоростью разрешается движение грузовых автомобилей с разрешенной максимальной массой более 3,5 т на участках дорог, не отнесенных по условиям движения к «Дорогам для автомобилей» и обозначенных таким дорожным знаком?



- | | | | | |
|---------|---------|---------|---------|----------|
| 1 | 2 | 3 | 4 | 5 |
| 60 км/ч | 70 км/ч | 80 км/ч | 90 км/ч | 110 км/ч |

12.6
«Г»

11 Транспортные средства проедут перекресток в следующем порядке:



1. Мотоцикл, автомобиль, трамвай.
2. Трамвай, автомобиль, мотоцикл.
3. Трамвай, мотоцикл, автомобиль.

16.11
16.12

12 Вторым проедет перекресток:



1. Синий автомобиль.
2. Зеленый автомобиль.
3. Красный автомобиль.

16.12


13 Водитель какого транспортного средства должен уступить дорогу?



1. Водитель автобуса.
2. Водитель мотоцикла.

16.12

14 Разрешается ли обгон автобуса в этом месте?



1. Разрешается.
2. Запрещается.

14.6
«Б»

15 Каким опознавательным знаком обозначается транспортное средство при перевозке организованных групп детей?



1



2



3

30.3
«В»

16 Какую дистанцию на дорогах вне населенных пунктов должны соблюдать водители транспортных средств, скорость которых не превышает 40 км/ч?

1. Дистанция должна быть не менее 50 м.
2. Дистанция должна быть не менее 100 м.
3. Дистанция должна быть такая, чтобы транспортные средства, осуществляющие обгон, имели возможность беспрепятственно вернуться на ранее занимаемую полосу движения. Это требование не действует, если водитель тихоходного транспортного средства готовится к выполнению обгона и подает предупреждающий сигнал.

13.2

17 Разрешается ли эксплуатировать автомобиль, если отсутствуют предусмотренные конструкцией транспортного средства зеркала заднего вида?

1. Разрешается, если заднее стекло не закрыто шторками.
2. Запрещается.
3. Разрешается, если имеется хотя бы одно зеркало.

31.4.7
«А»

18 Что называется остановочным путем?

1. Расстояние, пройденное автомобилем с момента обнаружения водителем опасности до начала торможения.
2. Расстояние, пройденное автомобилем с момента обнаружения водителем опасности до остановки.

ОБД

19 Какая административная ответственность водителей предусмотрена за передачу управления транспортным средством лицу, не имеющему права управления?

1. Предупреждение или штраф в размере 68-85 грн.
2. Штраф в размере 34-68 грн.
3. Исправительные работы.
4. Предупреждение или штраф в размере 17-34 грн.

ст.126,
ч.1

20 В медицинской аптечке транспортного средства имеется "Раствор аммиака" (нашатырный спирт). Он применяется при:

1. Потере сознания.
2. Угаре.
3. Полоскании горла.
4. В случаях, указанных в ответах 1 и 2.
5. Во всех перечисленных случаях.

Содержание Вашей аптечки в очень нужный момент сохранит жизнь Вам и Вашим пассажирам!!!

"Я-ВОДИТЕЛЬ"



1 "Безопасная скорость", по определению Правил дорожного движения, это:

1. Только максимальная скорость, установленная Правилами дорожного движения для конкретного транспортного средства на определенном участке дороги.
2. Скорость, при которой водитель имеет возможность безопасно управлять транспортным средством и контролировать его движение в конкретных дорожных условиях.
3. Скорость, указанная в ответах 1 и 2.

1.10

2 На каком рисунке водитель совершил маневр, не нарушая требований Правил?



1

2

3

4.1, 5.5,
Прил. № 1

3 На какие транспортные средства действие этого знака не распространяется?



1. Маршрутное такси.
2. Такси с включенным таксометром.
3. Автомобиль, управляемый инвалидом, который обозначен опознавательным знаком «Инвалид».
4. Маршрутные транспортные средства.
5. Транспортные средства, указанные в ответах №2 и №3.

3.35 Прил.
№ 1, 2.7

4 Какой знак предупреждает о приближении к железнодорожному переезду со шлагбаумом?



1



2



3



4



5

1.27
Прил. № 1


5 Такой знак вместе с табличкой разрешают транзитное движение:



1. Только налево.
2. Только прямо.
3. Только направо.
4. Прямо, направо и в обратном направлении.

3.1, 7.3.2
Прил. № 1

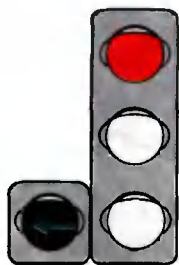
6 Разрешена ли остановка в этом месте?



1. Разрешена.
2. Запрещена.

1.4
Прил. № 2

7 Должен ли водитель трамвая при движении на данный сигнал светофора уступить дорогу транспортным средствам, движущимся с других направлений?



1. Должен.
2. Не должен.


8.7.3
«Е»

8 Когда на буксируемом механическом транспортном средстве должна быть включена аварийная световая сигнализация?

1. Только в темное время суток.
2. Только в темное время суток и в условиях недостаточной видимости.
3. Всегда должна быть включена при буксировке.
4. Только когда на буксируемом транспортном средстве неисправно рулевое управление.
5. Только когда на буксируемом транспортном средстве неисправна тормозная система.

9.9
«Г»

9 Какой автомобиль правильно поставлен на стоянку?



1. Красный.
2. Желто-синий.
3. Оба правильно.
4. Оба неправильно.

11.6
15.9 "В"

10 С какой максимальной скоростью разрешается движение транспортным средствам, управляемым водителем со стажем до двух лет на участках дорог, обозначенных таким дорожным знаком:



1

2

3

4

5

40 км/ч 50 км/ч 60 км/ч 70 км/ч 90 км/ч

12.6
«Б»



11 Транспортные средства проедут перекресток в следующем порядке:



1. Трамвай, автобус, легковой автомобиль.
2. Автобус, легковой автомобиль, трамвай.
3. Легковой автомобиль, трамвай, автобус.

16.12
16.13

12 Каким транспортным средствам запрещено движение?



1. Трамваю и мотоциклу.
2. Автомобилу и мотоциклу.
3. Всем транспортным средствам.
4. Трамваю, грузовому автомобилю и мотоциклу.

8.7.3
«Б»

13 В каком ответе правильно указаны действия водителя автомобиля?



1. Уступил дорогу мотоциклу и развернулся на перекрестке.
2. Уступил дорогу трамваю и развернулся на перекрестке.
3. Уступил дорогу трамваю, мотоциклу и развернулся на перекрестке.

16.12
16.13

14 Остановка транспортных средств запрещается в местах, где минимальное расстояние между сплошной линией продольной разметки и остановившимся транспортным средством менее:



1. 2,0 м.
2. 3,0 м.
3. 4,0 м.
4. 5,0 м.
5. 6,0 м.

15.9
«Д»

15 Сельскохозяйственные, дорожные, строительные и другие машины провозить через железнодорожный переезд:

1. Разрешается, если получено разрешение начальника дистанции пути железной дороги.
2. Разрешается только в транспортном положении.
3. Разрешается.
4. Запрещается.

20.6

16 Чтобы не создавать опасности для дорожного движения безопасный интервал необходимо выбирать:

1. Только при обгоне, опережении, объезде препятствия.
2. Только при встречном разъезде.
3. В случаях, перечисленных в ответах 1 и 2.
4. Только во время стоянки на площадке, обозначенной табличкой «Способ постановки транспортного средства на стоянку».

13.3

17 Разрешается ли установка шин, восстановленных по второму классу ремонта на легковых автомобилях?

1. Запрещается.
2. Разрешается на обеих осях автомобиля.
3. Разрешается только на задней оси.

31.4.5
«Ж»

18 Резкое торможение транспортного средства при интенсивном движении:

1. Может способствовать наезду сзади.
2. Сказывается только на техническом состоянии автомобиля.
3. Является обычным приемом управления при интенсивном движении.

ОБД

19 Какая административная ответственность водителей предусмотрена за управление транспортными средствами, имеющими неисправности тормозной системы или рулевого управления?

1. Предупреждение или штраф в размере 8,5-17 грн.
2. Лишение права управления транспортными средствами на срок от 3-х до 6 месяцев.
3. Штраф в размере 17-34 грн.
4. Предупреждение.

Ст.121.
ч.1

20 На каком рисунке показано положение пострадавшего, в котором рекомендуется его транспортировать при ранении шеи?



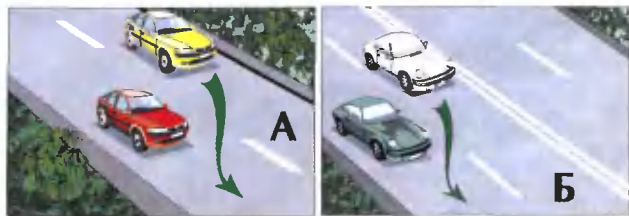
1. На рисунках 1 и 2.
2. Только на рисунке 1.
3. Только на рисунке 2.

Неправильно выбранное положение при транспортировке может привести к преждевременной гибели пострадавшего!!!

«Я-водитель»



- 1** На каком из рисунков показан обгон? (Водители желтого и белого автомобилей выехали из ранее занимаемой полосы движения).



1. А и Б. 2. А. 3. Б.

1.10
«Обгон»

- 2** Разрешается ли водителям велосипедов ездить по тротуарам?

1. Разрешается.
2. Разрешается при отсутствии пешеходов.
3. Запрещается, кроме детей до 7 лет на детских велосипедах под присмотром взрослых.

6.7
«В»


- 3** Этот дорожный знак:



1. Если он установлен перед въездом на площадь даёт право на первоочередное движение транспортным средствам, движущимся по ней.
2. Разрешает движение только в направлении, указанном стрелками.
3. Соответствует требованиям, указанным в обоих ответах.


4.10
Прил. №1

- 4** Какой знак обозначает «Гостиницу или мотель»?



6.16
Прил. № 1

- 5** На каком рисунке показаны разрешенные направления движения?



1. На рисунке А.
2. На рисунке Б.

3. На рисунке В.
4. На рисунках Б и В.

3.24
Прил. № 1

- 6** Где наносится сплошная желтая линия дорожной разметки, обозначающая места, где запрещена остановка?



1. На проезжей части.
2. Только у края проезжей части.
3. У края проезжей части или по верху бордюра тротуара.
4. Только по верху бордюра тротуара.

1.4
Прил. № 2

- 7** На каком рисунке водитель поворачивает правильно?



1. На левом рисунке 2. На правом рисунке.


8.8
«Б»

- 8** В населенном пункте водитель автобуса или троллейбуса начинает движение от обозначенной остановки, которая расположена в заездном «кармане». Он должен:

1. Уступить дорогу объезжавшему его транспортному средству.
2. Используя преимущество, начинать движение в намеченном направлении.
3. Принять меры для предотвращения дорожно-транспортного происшествия.

17.5

- 9** Разрешается ли водителю автомобиля выполнить обгон?



1. Разрешается.
2. Запрещается.
3. Разрешается только потому, что он обгоняет гужевую повозку.

14.6
«А»

- 10** С какой максимальной скоростью разрешается движение на данном участке дороги при наличии на автомобиле опознавательного знака?



1. 70 км/ч.
2. 90 км/ч.
3. 100 км/ч.

12.9
«Б»



11 Транспортные средства проедут перекресток в следующем порядке?



1. Трамвай 1 и 2; зеленый автомобиль; красный, синий автомобили.
2. Трамвай 1, красный автомобиль, зеленый автомобиль; трамвай 2, синий автомобиль.

16.11
16.13

12 Последним проедет перекресток:



1. Синий автомобиль.
2. Зеленый автомобиль.
3. Красный автомобиль.

16.12

13 Разрешается ли буксировать мотоциклы?

1. Разрешается мотоциклы с боковым прицепом.
2. Запрещается.
3. Разрешается в равнинной местности.
4. Разрешается мотоциклы без бокового прицепа.

23.10
«Г»

14 Остановка запрещается:

1. Только на мостах.
2. Только на эстакадах и путепроводах.
3. Во всех вышеперечисленных местах.
4. Только на мостах и эстакадах.

15.9
«Б»

15 Груз размещается и при необходимости закрепляется на транспортном средстве так, чтобы он:

1. Не выступал выше бортов платформы.
2. Не создавал шума, не поднимал пыли, не загрязнял проезжую часть и окружающую среду.
3. Не выступал за габариты транспортного средства сзади более чем на 0,8 м.

22.3
«Д»

16 Какое из указанных действий запрещено в жилой зоне?

1. Движение со скоростью более 15 км/ч.
2. Транзитное движение транспортных средств.
3. Стоянка более одного часа.
4. Все вышеуказанные действия.

26.2
«А»

17 На автомагистралях запрещено:

1. Движение велосипедистов, тракторов, самоходных машин и механизмов.
2. Опережение транспортных средств, движущихся со скоростью 90 км/ч.
3. Все перечисленные действия.

27.2 «А»
6.7 «Б»

18 Как остановить автомобиль в случае внезапного отказа рабочего тормоза?



1. Перейти на низшую передачу, затормозить стояночным тормозом. При необходимости воспользоваться каким-либо препятствием.
2. Выключить сцепление и резко затормозить стояночным тормозом.

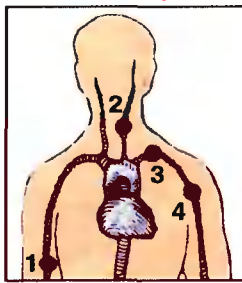
ОБД

19 Какая административная ответственность водителей предусмотрена за управление транспортными средствами, не зарегистрированными (перерегистрированными) в установленном порядке?

1. Штраф в размере 54-68 грн.
2. Штраф в размере 34-85 грн.
3. Конфискация предмета, явившегося орудием совершения административного правонарушения.
4. Лишение права управления транспортными средствами сроком от 1 года до 2-х лет.

Ст.121,
ч.4

20 Укажите наиболее типичное место пережатия артерии для остановки кровотечения из раны головы и шеи:



1. В точках 3 и 4.
2. В точках 2 и 3.
3. В точке 2.
4. В точках 1 и 2.

Перед оказанием помощи вымойте свои руки водой, спиртовым раствором или нестилизированным бензином!!!

М.Буянов
стр.93



- 1** В каком положении должен остановиться водитель легкового автомобиля, чтобы выполнить требование знака "Уступите дорогу"?



1. В любом из показанных.
2. В положении А.
3. В положении Б.

1.10

- 2** Разворот запрещается:

1. На проезжей части с однополосным движением.
2. На пешеходных переходах.
3. На проезжей части с трамвайными путями.
4. Во всех перечисленных местах.

10.7 "Д"

- 3** Этот дорожный знак:



1. Запрещает движение всех механических транспортных средств, за исключением двухколесных мотоциклов без бокового прицепа.
2. Запрещает движение всех транспортных средств, за исключением колесных тракторов.
3. Запрещает движение тракторов, самоходных машин и механизмов.

3.5
Прил. № 1

- 4** Действие какого знака не распространяется на маршрутные транспортные средства?



1



2



3




4



5

3.34
Прил. № 1

- 5** Разрешается ли такому автопоезду проехать по мосту?



1. Разрешается.
2. Запрещается.

3.15
Прил. № 1

- 6** Что означают такие стрелы на проезжей части?



1. Предупреждают водителя о приближении к опасному участку дороги.
2. Предупреждают о приближении к сужению проезжей части.
3. Указывают направление опасного поворота дороги.

1.19
Прил. № 2

- 7** При красном сигнале данного светофора движение запрещается:



1. Только по первой полосе.
2. По всей ширине проезжей части.
3. С обгоном.
4. По полосе, над которой он расположен.

8.7.4

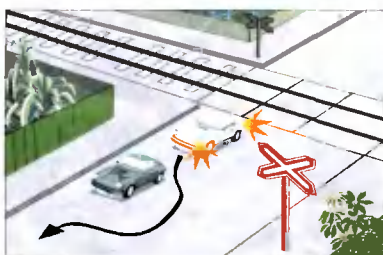
- 8** Когда должен быть подан предупреждающий сигнал перед перестроением в населенном пункте?

1. Непосредственно перед началом выполнения маневра.
2. Сразу после начала выполнения маневра.
3. За 150-200 м до начала выполнения маневра.
4. Заблаговременно до начала выполнения маневра, но не менее, чем за 50 - 100 м.

9.4

- 9** Разрешается ли обгон в показанной ситуации?

1. Разрешается.
2. Запрещается.
3. Разрешается, только если скорость обгоняемого транспортного средства менее 30 км/ч.
4. Разрешается, если водитель транспортного средства, движущегося впереди по той же полосе, не увеличит скорость движения.

14.6
"Б"

- 10** С какой максимальной скоростью разрешается движение междугородным автобусам на участках дорог, обозначенных таким дорожным знаком?



- | 1 | 2 | 3 | 4 | 5 |
|---------|---------|---------|---------|---------|
| 50 км/ч | 60 км/ч | 70 км/ч | 80 км/ч | 90 км/ч |

12.6
«А»



11 Транспортные средства проедут перекресток в следующем порядке:



1. Зеленый автомобиль; трамвай 2; синий, желтый, красный автомобили.
2. Трамвай 1 и 2; зеленый, синий, желтый, красный автомобили.

16.11
16.13

12 Последним проедет перекресток:



1. Красный автомобиль.
2. Синий автомобиль.
3. Зеленый автомобиль.

16.12
16.13

13 Разрешается ли буксировка в гололедицу?

1. Разрешается только на жесткой сцепке.
2. Разрешается только одной транспортной единицы с применением средств противоскольжения.
3. Запрещается.

23.10
«Б»

14 В каких местах разрешается ставить транспортное средство под углом к краю проезжей части?

1. Только на дорогах с двумя полосами движения.
2. Только на дорогах с тремя и более полосами движения.
3. Только на дорогах с односторонним движением.
4. Там, где это не будет препятствовать движению других транспортных средств.

15.5

15 С какого возраста разрешается обучаться вождению на мотоцикле?

- | | | | |
|----------|----------|----------|----------|
| 1 | 2 | 3 | 4 |
| с 12 лет | с 14 лет | с 16 лет | с 18 лет |

24.2

16 С органами Госавтоинспекции согласовывается движение транспортных средств с грузом или без него размеры которого по ширине превышают:

- | | | | | |
|--------|-------|-------|-------|-------|
| 1 | 2 | 3 | 4 | 5 |
| 2,55 м | 2,5 м | 3,8 м | 4,0 м | 5,0 м |

32.1
«М»

17 Что запрещено на автомагистралях водителям грузовых автомобилей, разрешенная максимальная масса которых менее 3,5 т?

1. Движение далее 2-й полосы, кроме перестроения для разворота или поворота налево.
2. Движение задним ходом.
3. Буксировка механических транспортных средств.
4. Все перечисленные действия.

27.2
«Б», «Д»

18 Для предотвращения опасных последствий заноса автомобиля водитель должен:

1. Резко нажать на педаль тормоза.
2. Нажать на педаль сцепления.
3. Прекратить начатое торможение.


ОБД

19 Какая административная ответственность водителей предусмотрена за управление транспортными средствами без номерного знака?

1. Административный арест.
2. Штраф в размере 34-85 грн.
3. Предупреждение.

Ст.121,
ч.4

20 На каком рисунке показано положение пострадавшего, в котором рекомендуется его транспортировать при переломе костей таза?



1. На рисунках 1 и 2.
2. Только на рисунке 1.
3. Только на рисунке 2.

Неправильно выбранное положение при транспортировке может привести к преждевременной гибели пострадавшего!!!

"Я-ВОДИТЕЛЬ"



1 Что обозначает понятие «Разрешенная максимальная масса»?

1. Грузоподъемность транспортного средства.
2. Фактическая масса транспортного средства.
3. Масса снаряженного транспортного средства с грузом, водителем и пассажирами, установленная технической характеристикой транспортного средства, как максимально допустимая.
4. Масса груза, перевозимого транспортным средством, которая устанавливается в качестве допустимой технической характеристикой завода-изготовителя.

1.10

2 Перед началом перестроения Вы должны убедиться:

1. Что Ваш маневр будет понятен пешеходам, и они воздержатся от перехода.
2. В отсутствии запрещающих знаков.
3. Что маневр будет безопасным и не создаст препятствий или опасности для других участников движения.

10.1

3 Этот дорожный знак обозначает:



1. Участок дороги, на котором имеется тротуар или пешеходная дорожка.
2. Приближение к пешеходному переходу, обозначенному соответствующими дорожными знаками или дорожной разметкой.
3. Участок дороги, не имеющий тротуара или пешеходной дорожки.

1.32
Прил. № 1

4 Действие какого из знаков не распространяется на маршрутные транспортные средства?



1



2



3



4



5

3.23
Прил. № 1

5 Разрешен ли обгон в этом месте?



1. Разрешен.
2. Запрещен.
3. Разрешен, только при условии, что скорость обгоняемого менее 30 км/ч.

3.25, 7.1.1
Прил. № 1

6 Разрешается ли заезжать на островок, размеченный широкими белыми линиями?



1. Разрешается только для остановки.
2. Разрешается при движении задним ходом.
3. Запрещается.

1.1
Прил. № 2

7 Этот сигнал регулировщика означает, что:



1. Разрешено движение зеленому автомобилю. Запрещено красному, желтому, белому.
2. Разрешено движение красному, зеленому автомобилям. Запрещено желтому, белому.

8.8
«Б»

8 Если требуется включить аварийную световую сигнализацию в населенном пункте, а она неисправна, надо ли выставлять знак аварийной остановки или мигающий красный фонарь?

1. Необходимо.
2. Не надо.

9.11

9 В каком из ответов правильно названо одно из условий, в котором должен убедиться водитель, прежде чем начать обгон?

1. В исправности своего транспортного средства.
2. В том, что на проезжей части имеется не менее двух полос для движения в одном направлении.
3. В том, что водитель транспортного средства, движущегося впереди по той же самой полосе, не подал сигнал о намерении поворота (перестроения) налево.

14.2
«Б»

10 Какие меры по Правилам дорожного движения должен принять водитель при возникновении препятствия или опасности для движения, которые он объективно способен обнаружить?

1. Снизить скорость и проехать опасный участок, соблюдая меры безопасности.
2. Немедленно принять меры к снижению скорости вплоть до остановки транспортного средства либо безопасного для других участников движения объезда препятствия.
3. Сообщить о случившемся в милицию.
4. Прибыть на ближайший пост ГАИ или в орган милиции и сообщить о возникшем препятствии или опасности.

12.3



11 В каком порядке проедут перекресток транспортные средства?



1. Трамвай 2, трамвай 1, синий автомобиль, красный автомобиль.
2. Трамвай 2, синий автомобиль, трамвай 1, красный автомобиль.

16.11
16.14

12 Транспортные средства проедут перекресток в следующем порядке:



1. Легковой автомобиль, автобус, трамвай.
2. Трамвай, автобус, легковой автомобиль.
3. Трамвай, легковой автомобиль, автобус.

16.12

13 Водитель какого транспортного средства должен уступить дорогу?



1. Водитель мотоцикла, Вам.
2. Вы—водитель автомобиля — водителю мотоцикла.

16.9

14 В каких местах из перечисленных запрещена остановка транспортных средств?

1. На берегу водоема.
2. Ближе 20 м от перекрестка.
3. Под мостами и на них.
4. По всех указанных местах.

15.9
«Б»

15 Разрешается ли объезжать стоящие перед закрытым шлагбаумом транспортные средства?

1. Разрешается, если нет встречных транспортных средств.
2. Разрешается только мотоциклам без бокового прицепа.
3. Запрещается, если скорость объезжающего транспортного средства менее 8 км/час.
4. Запрещается.

20.7

16 При движении в колонне:

1. На каждом транспортном средстве включается дальний свет фар.
2. Водители всех транспортных средств должны между собой договориться о дистанции движения.
3. Водители всех транспортных средств должны между собой договориться о скорости движения.
4. Колонна, движущаяся без сопровождения автомобилями оперативной службы, должна быть разделена на группы не более пяти транспортных средств в каждой, дистанция между которыми должна обеспечить возможность обгона группы другими транспортными средствами.
5. Выполнить все вышеуказанные действия.

25.4

17 В каких местах разрешена преднамеренная остановка транспортных средств на автомагистралях?

1. На крайней правой полосе проезжей части дороги.
2. В местах, где видимость более 300 м и число полос движения более четырех.
3. На специальных площадках для стоянки, обозначенных знаками «Место для стоянки» или «Место отдыха».

27.2
«В»

18 При движении в условиях тумана расстояние до предметов представляется:

1. Более отдаленным, чем в действительности.
2. Менее отдаленным, чем в действительности.
3. Соответствующим действительному.

ОБД

19 Какая административная ответственность водителей предусмотрена за эксплуатацию транспортных средств, номера агрегатов которых не соответствуют записям в регистрационных документах?

1. Штраф в размере 17-51 грн.
2. Штраф в размере 58-136 грн.
3. Административный арест.
4. Предупреждение или штраф в сумме 17-34 грн.

Ст.121¹,
ч.1

20 При достижении какого минимального возраста разрешается перевозить детей в кузове любого грузового автомобиля?

1	2	3	4	5
12 лет	14 лет	16 лет	10 лет	8 лет

21.11
«В»



1 Считается ли перекрестком выезд на дорогу с автозаправочной станции?

1. Не считается.
2. Считается.

1.10

2 Где не должно оказаться транспортное средство при выезде с перекрестка во время поворота?

1. На левой полосе, если занята правая полоса.
2. На полосе встречного движения.
3. На левой полосе, если имеется не менее трех свободных полос для движения в одном направлении.

10.5


3 Этот дорожный знак обозначает:



1. Дорогу, не имеющую сквозного проезда.
2. Направление движения к объекту в населенном пункте.
3. Конец дополнительной полосы на подъеме или полосы разгона.

5.29.1
Прил. № 1

4 Какой из знаков устанавливается непосредственно перед опасным участком дороги?



1.29
Прил. № 1

5 В каких направлениях разрешено движение? (направления А и В выезды во дворы)



1. Только А.
2. Только Б.
3. А и Б.
4. А, Б, В и Г.
5. А, Б и В.

4.1
Прил. № 1

6 Эта дорожная разметка обозначает:



1. Запрещается движение в указанных направлениях.
2. Указывает разрешенные направления движения по полосам.
3. Приближение к пересечению дорог, на котором движение разрешается во всех направлениях.

1.18
Прил. № 2

7 Движение разрешено:



1. Прямо.
2. Направо в первый проезд.
3. Направо во второй проезд.
4. Направо в первый и второй проезды.

8.8
"Б"

8 Как должен поступить водитель транспортного средства, если включился разрешающий сигнал светофора, а на проезжей части в направлении его движения находятся пешеходы, не успевшие ее перейти?

1. Снизить скорость, подать звуковой сигнал и проехать пешеходный переход с минимальной скоростью.
2. Подать звуковой сигнал и проехать пешеходный переход не снижая скорости.
3. Проехать пешеходный переход, соблюдая меры предосторожности.
4. Уступить дорогу пешеходам, которые заканчивают переход проезжей части соответствующего направления движения и для которых может быть создана помеха или опасность.

18.2

9 По требованию Правил дорожного движения, как должен действовать водитель автомобиля при обгоне его другим транспортным средством?

1. Не изменяя полосы движения, подать сигнал указателем правого поворота.
2. Не препятствовать обгону повышением скорости движения или иными действиями.
3. Снизить скорость движения, подать звуковой сигнал.

14.3

10 С какой максимальной скоростью разрешается движение при перевозке людей в кузове грузового автомобиля?

1	2	3	4	5
40 км/ч	50 км/ч	60 км/ч	70 км/ч	90 км/ч

12.6
«В»

Воспроизводить и тиражировать задачи этого билета категорически запрещено! Нарушение авторских прав преследуется по закону Украины. Свидетельство № 653 от 22.11.2000 г. ГАУ АСР



11 Транспортные средства проедут перекресток в следующем порядке?



1. Трамвай 1 и 2; зеленый автомобиль; красный, синий автомобили.
2. Трамвай 1, красный автомобиль, зеленый автомобиль; трамвай 2, синий автомобиль.

16.11
16.14

12 Водитель какого транспортного средства должен уступить дорогу?



1. Я—мотоциклисту.
2. Водитель мотоцикла.

16.12

13 Водитель какого транспортного средства должен уступить дорогу?



1. Водитель трамвая.
2. Водитель грузового автомобиля.
3. Водители обеих автомобилей.

16.12

14 В каких местах из перечисленных запрещается остановка транспортных средств?

1. Возле железнодорожных вокзалов.
2. Возле универсамов и других крупных магазинов.
3. Ближе 15 м от края пересекаемой проезжей части.
4. Под эстакадами, мостами и путепроводами.
5. Во всех указанных местах.

15.9
«Б»

15 Кто регламентирует максимальную массу перевозимого груза и распределение нагрузки по осям транспортного средства?

1. Госавтоинспекция.
2. Администрация предприятия своим приказом.
3. Техническая характеристика данного транспортного средства.

22.1

16 Транспортное средство должно быть временно зарегистрировано в Госавтоинспекции, если оно находится в международном движении, на территории Украины более:

1. Одного месяца.
2. Двух месяцев.
3. В обоих случаях.

29.2

17 Разрешается ли остановка и стоянка на дорогах, обозначенных таким знаком?



1. Разрешается только на правой стороне у края проезжей части.
2. Разрешается на время до 30 мин.
3. Разрешается только в местах, обозначенных знаками «Место для стоянки» или «Место отдыха».
4. Разрешается в местах, указанных в ответах № 1 и № 3.

27.2
«В»

18 Какие факторы должен учитывать водитель для принятия мер безопасности при повороте с хорошо освещенной улицы на неосвещенную?

1. Для адаптации зрения необходимо определенное время.
2. Автомобиль сначала повернет, и только потом фары высветят имеющиеся препятствия на неосвещенной дороге.
3. Интенсивность движения на неосвещенной дороге ниже, поэтому, включив дальний свет, можно двигаться с высокой скоростью.
4. Факторы, указанные в ответах 1 и 2.

ОБД

19 При вынужденной остановке в темное время суток на неосвещенных участках дорог в случае неисправности габаритных или стояночных огней необходимо:

1. Включить ближний свет фар.
2. Принять правее и включить ближний свет фар.
3. Убрать транспортное средство за пределы дороги, а если это невозможно, его необходимо обозначить в соответствии с требованиями настоящих Правил.

19.4

20 Разрешается ли перевозка людей в кузовах-фургонах?

1. Запрещается.
2. Разрешается только в том случае, если их конструкция предназначена для таких перевозок.
3. Разрешается.

21.11
«А»

1 Дает ли преимущество в движении включенный проблесковый маячок оранжевого цвета?

1. Дает.
2. Не дает.

3.6

2 В каком случае разрешается посадка и высадка пассажиров с крайней полосы проезжей части?

1. При вынужденной остановке транспортного средства.
2. По усмотрению водителя при условии, что это будет безопасно и не создаст помех другим участникам движения.
3. Если это невозможно сделать со стороны тротуара или обочины и при условии, что это будет не со стороны смежной полосы движения, безопасно и не создаст помех другим участникам движения.
4. На дорогах с односторонним движением, имеющих две полосы или более.

5.1

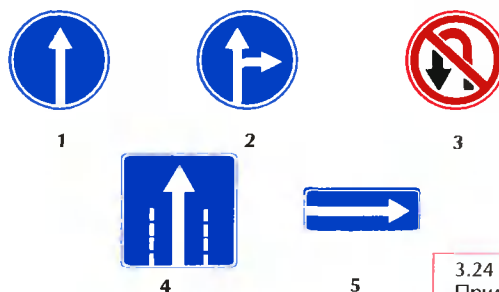
3 Как должен поступить водитель, если перед перекрестком установлен этот знак?



1. При отсутствии транспортных средств на пересекаемой дороге проехать перекресток без остановки.
2. При проезде через перекресток быть особенно внимательным.
3. Остановиться у "стоп-линии", а если ее нет - перед краем пересекаемой проезжей части, уступив дорогу транспортным средствам, движущимся по главной дороге.

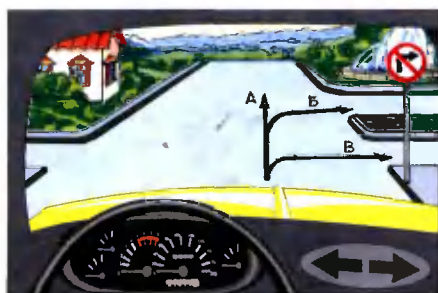
2.2
Прил. № 1

4 Какой знак разрешает левый поворот?



3.24
Прил. № 1

5 В каком ответе правильно указаны все разрешенные направления движения?



1. А.
2. Б.
3. В.
4. А и Б.
5. А и В.

3.22
Прил. № 1

6 Что обозначает такая разметка?



1. Пешеходный переход, где движение регулируется светофором.
2. Место, где велосипедная дорожка пересекает проезжую часть.
3. Место, где пешеходная дорожка пересекает проезжую часть.

1.14.3
Прил. № 2

7 В каком случае водитель мотоцикла повернул налево правильно?



1. Выехал на перекресток, пропустил грузовой автомобиль, закончил поворот.
2. При данном жесте регулировщика повернул налево безостановочно.

8.9 ; 8.8
"Б"

8 Является ли включение ближнего света или противотуманных фар в светлое время суток предупреждающим сигналом?

1. Является.
2. Не является.

9.1
«Г»

9 Разрешен ли обгон в данной ситуации вне населенного пункта?



1. Разрешен только одиночных транспортных средств, движущихся со скоростью менее 30 км/час.
2. Запрещен.
3. Разрешен во всех случаях.

14.6
«Б»

10 С какой скоростью разрешается движение легкового автомобиля в населенном пункте, обозначенном таким дорожным знаком?



1. На всех дорогах данного населенного пункта не более 60 км/ч.
2. На всех дорогах данного населенного пункта не более 80 км/ч.
3. На всех дорогах данного населенного пункта не более 90 км/ч.
4. В населенном пункте, на дороге, на которой установлен данный знак не более 90 км/ч., а на всех остальных дорогах этого же населенного пункта не более 60 км/ч.

12.4, 5.47
Прил. № 1



- 11** Автомобили проедут перекресток в следующем порядке:



1. Синий; зеленый; красный.
2. Красный; синий; зеленый.
3. Зеленый; красный; синий.

16.11
16.13

- 12** В каком ответе правильно указана очередность проезда перекрестка?



1. Автобус, автомобиль, велосипед.
2. Автомобиль, автобус, велосипед.
3. Велосипед, автобус, автомобиль.

16.12

- 13** Разрешается ли перевозить людей в буксируемом автомобиле при буксировке на гибкой или жесткой сцепке?

1. Разрешается в автобусе.
2. Разрешается в легковом автомобиле.
3. Разрешается в кузове грузового автомобиля при буксировке на жесткой сцепке.

23.9

- 14** Водитель может покидать свое место или оставлять транспортное средство, если:

1. Он заглушил двигатель и поставил автомобиль на стояночный тормоз.
2. Он заглушил двигатель и установил задние противооткатные упоры.
3. Им приняты необходимые меры, исключающие самопроизвольное движение транспортного средства или проникновения в него и использования без разрешения.

15.12

- 15** Такой опознавательный знак размещается:



1. На транспортном средстве, используемом для дорожных работ — обязательно.
2. На транспортном средстве, имеющем особую форму — обязательно.
3. На иных транспортных средствах — по согласию их владельцев.
4. В случаях, перечисленных в ответах 1, 2, 3.

30.3
«П»

- 16** Разрешается ли пешеходам двигаться в жилой зоне по проезжей части?



1. Разрешается как по тротуарам, так и по проезжей части.
2. Разрешается только по тротуарам.

26.1

- 17** В каких местах разрешена остановка транспортных средств на автомагистралях?

1. У края проезжей части.
2. На первой полосе, если число полос движения более четырех.
3. На полосе разгона.
4. Во всех перечисленных местах.
5. На специальных площадках для стоянки, обозначенных дорожным знаком «Место для стоянки» или «Место отдыха».

27.2
«В»

- 18** Двигаясь прямо, Вы внезапно попали на скользкий участок дороги. Что следует предпринять в данной ситуации?

1. Не меняя положения рулевого колеса и скорости движения, проехать скользкий участок дороги.
2. Проехать скользкий участок дороги, не меняя положения рулевого колеса, притормаживая, не выключая сцепления.
3. Не меняя положения рулевого колеса, выключить передачу и двигаться накатом.
4. Не меняя положения рулевого колеса, увеличить скорость движения автомобиля на данном участке.

ОБД

- 19** Какая административная ответственность водителей предусмотрена за проезд на запрещающий сигнал светофора или жест регулировщика?

1. Предупреждение или штраф в размере 8,5 — 17 грн.
2. Лишение права управления транспортными средствами на срок от 6 месяцев до 1 года.
3. Штраф в размере 17—34 грн.
4. Штраф в размере 51—68 грн.

Ст.122,
ч.1

- 20** Разрешается ли перевозить детей, не достигших 12-летнего возраста в кабине грузового автомобиля?

1. Разрешается, обеспечив их безопасность.
2. Разрешается только в сопровождении взрослого пассажира.
3. Запрещается.

21.11
«Б»



1 Разрешается ли мастеру обучения вождению не пристегиваться ремнями безопасности?

1. Запрещается.
2. Разрешается в любом случае.
3. Разрешается, если за рулем находится ученик.

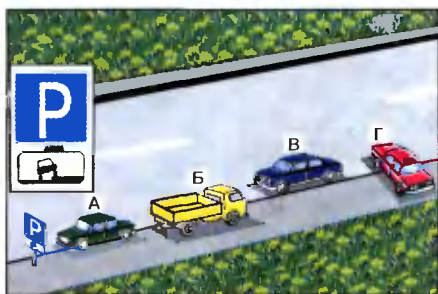
2.2
«В»

2 Разворот запрещается:

1. На перекрестках и ближе 15 м от них.
2. Ближе 15 м перед перекрестками.
3. На дорогах с двусторонним движением, имеющих не более двух полос для движения.
4. На участках с видимостью дороги хотя бы в одном направлении менее 100 м.

10.7
«Г»

3 Водители каких транспортных средств нарушили правила стоянки?



1. А и Б.
2. Только Г.
3. Б и Г.
4. В и Г.
5. Б, В и Г.

7.6.2
Прил. № 1

4 Какой из указанных знаков запрещает движение автомобилей с прицепом, если разрешенная максимальная масса состава транспортных средств равна 7 т?



1



2



3



4



5

3.4
Прил. № 1

5 Разрешается ли на этом перекрестке повернуть налево?



1. Разрешается во второй проезд.
2. Запрещается.

4.1
Прил. № 1

6 Что означает такая разметка?



1. Пешеходный переход.
2. Место, где велосипедная дорожка пересекает проезжую часть.
3. Место перегона скота.

1.15
Прил. № 2

7 Разрешается ли движение задним ходом на дорогах с односторонним движением?

1. Разрешается при условии, что водитель не создает опасности или помех другим участникам дорожного движения.
2. Запрещается.
3. Разрешается только с целью погрузки или разгрузки груза.

10.9
10.10

8 Что должен сделать водитель в данной ситуации?



1. Объехать стоящее транспортное средство на минимальной скорости, заблаговременно включив ближний свет фар и периодически подавая звуковой сигнал.
2. Снизить скорость и при необходимости остановиться, чтобы избежать наезда на детей.

18.9

9 Разрешается ли обгон транспортных средств на перекрестке на дороге, являющейся главной, по отношению к пересекаемой?

1. Запрещается.
2. Разрешается.

14.6
«А»

10 С какой максимальной скоростью разрешается движение при буксировке грузовым автомобилем механического транспортного средства?

- | 1 | 2 | 3 | 4 | 5 |
|---------|---------|---------|---------|---------|
| 30 км/ч | 40 км/ч | 50 км/ч | 60 км/ч | 70 км/ч |

12.7



11 Водитель какого транспортного средства должен уступить дорогу?



1. Я мотоциклисту.
2. Водитель мотоцикла.

16.11

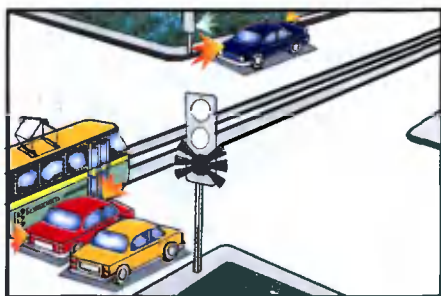
12 Водитель какого транспортного средства должен уступить дорогу?



1. Я водителю автобуса.
2. Водитель автобуса.

16.12

13 Красный автомобиль проедет перекресток:



1. Первым.
2. Вторым.
3. Третьим.
4. Последним.

16.6
16.7

14 Разрешается ли водителю красного автомобиля открыть двери в показанной ситуации?



1. Запрещается, так как данная дорога с очень интенсивным движением.
2. Разрешается, если это не угрожает безопасности и не создаст препятствие другим участникам движения.

15.13

15 Разрешается ли самовольно открывать шлагбаум или объезжать его при выполнении служебного задания?

1. Запрещается.
2. Разрешается.
3. Разрешается по усмотрению водителя, если вблизи нет приближающегося поезда.
4. Разрешается при отсутствии дежурного по переезду.

20.7

16 Если встречный разъезд на участках дорог, обозначенных знаком «Крутой спуск», затруднен, необходимо уступить дорогу:

1. Транспортному средству, движущемуся на спуск.
2. Маршрутному транспортному средству.
3. Транспортному средству, движущемуся на подъем.

13.4

17 Разрешается ли въезд в технологические разрывы разделительной полосы на автомагистралях?

1. Разрешается.
2. Разрешается только для разворота, кроме грузовых автомобилей с разрешенной максимальной массой более 3,5 т.
3. Запрещается.
4. Разрешается маршрутным транспортным средствам.

27.2
«Г»

18 Смещение центра тяжести вверх при загрузке грузового автомобиля:

1. Повышает устойчивость.
2. Не изменяет ее.
3. Снижает устойчивость против опрокидывания.

ОБД

19 Противотуманные фары в условиях недостаточной видимости используются:

1. Только совместно с габаритными огнями и освещением номерного знака.
2. Только совместно с ближним или дальним светом фар.
3. Во всех перечисленных случаях.

19.5, 31.4.3
Примеч. 3

20 На каком рисунке показано положение пострадавшего, в котором рекомендуется его транспортировать в безсознательном состоянии?



1



2

1. На рисунках 1 и 2.
2. Только на рисунке 1.
3. Только на рисунке 2.

Неправильно выбранное положение при транспортировке может привести к преждевременной гибели пострадавшего!!!

"Я-водитель"





11 Вторым проедет перекресток :



1. Зеленый автомобиль.
2. Синий автомобиль.
3. Красный автомобиль.

16.11
16.14

12 Первым проедет перекресток :



1. Красный автомобиль.
2. Зеленый автомобиль.
3. Синий автомобиль.

16.12

13 Разрешается ли перевозка людей в кузове грузового автомобиля при буксировке на жесткой или гибкой сцепке?

1. Разрешается в кузове буксирующего и буксируемого автомобилей.
2. Разрешается только в кузове буксируемого автомобиля.
3. Запрещается в кузове обоих автомобилей.
4. Разрешается только в кузове буксирующего автомобиля.

23.9

14 Где должен водитель остановить транспортное средство на дороге?

1. Только в специально отведенных местах.
2. Только на обочине.
3. В специально отведенных местах или на обочине.

15.1

15 Запрещается перевозка груза, если:

1. Крайняя точка груза по ширине находится на расстоянии более 0,4 м от внешнего края переднего или заднего габаритного огня.
2. Груз выступает за габариты транспортного средства спереди более чем на 1 м.
3. Масса перевозимого груза превышает величину, установленную технической характеристикой данного транспортного средства.

22.1
22.4

16 В жилой зоне запрещается:

1. Только стоянка с работающим двигателем.
2. Только движение грузовых автомобилей, тракторов, самоходных машин и механизмов кроме тех, которые обслуживают объекты и население, выполняют технологические работы или принадлежат гражданам, проживающим в данной зоне.
3. Только стоянка транспортных средств вне специально отведенных мест.
4. Все вышеуказанные действия.

26.2

17 Какие транспортные средства запрещается эксплуатировать, если на них отсутствуют медицинские аптечки и огнетушители?

1. Только легковые автомобили.
2. Только автобусы.
3. Только грузовые автомобили и колесные тракторы.
4. Все перечисленные транспортные средства.

31.4.7
«І»

18 Если Вы приближаетесь к повороту дороги налево и он оказался более крутым, чем предполагалось, Вы должны:

1. Продолжать движение, не изменяя скорости и придерживаясь левого края проезжей части дороги.
2. Снизить скорость движения.
3. Увеличить скорость, чтобы быстрее преодолеть поворот.

ОБД

19 Какие световые приборы должны быть включены на механическом транспортном средстве при движении в тоннеле независимо от степени освещения дороги?

1. Габаритные огни или ближний свет фар.
2. Дальний или ближний свет фар.
3. Аварийная световая сигнализация.
4. Световые приборы не включаются.

19.1

20 В медицинской аптечке транспортного средства имеется "Активированный уголь". Он применяется при:

1. Головной боли.
2. Отравлении газом.
3. Пищевом отравлении.
4. В случаях, указанных в ответах 2 и 3.

Содержание Вашей аптечки в очень нужный момент сохранит жизнь Вам и Вашим пассажирам!!!

"Я-водитель"



1 Что обозначает по Правилам дорожного движения термин «Остановка»?

- Преднамеренное прекращение движения транспортного средства на время до пяти минут, а также на большее, если это необходимо для посадки (высадки) пассажиров или погрузки (разгрузки) груза, выполнения требований настоящих Правил.
- Только прекращение движения транспортного средства для посадки (высадки) пассажиров либо погрузки (разгрузки) груза, а так же для выполнения требований настоящих Правил.
- Оба ответа дополняют друг друга и потому верны.

1.10

2 По какому из обозначенных стрелками пути водителю автопоезда разрешается выполнить поворот направо?

- Только по пути А.
- Только по пути Б при условии, что водитель автопоезда не создаст опасности или препятствия другим участникам движения, а при необходимости обратится за помощью к другим лицам.
- По любому из указанных путей.

10.6

3 Что обозначает этот знак?

- Запрещается движение транспортных средств грузоподъемностью 7 т.
- Запрещается движение транспортных средств, масса которых в снаряженном состоянии более 7 т.
- Запрещается движение транспортных средств, в том числе составов транспортных средств, общая фактическая масса которых более 7 т.

3.15
Прил. № 1

4 Какой знак обязывает уступить дорогу транспортным средствам, движущимся по пересекаемой дороге?

1 2 3 4 5

2.1
Прил. № 1

5 Разрешена ли остановка автомобиля в этом месте?

- Разрешена.
- Запрещена по четным числам месяца.
- Запрещена, так как расстояние между прерывистой линией разметки и остановившимся автомобилем менее 3 м.

3.35
Прил. №1

6 С каким дорожным знаком применяется разметка «Стоп-линия»?

- Со знаком «Уступите дорогу».
- Со знаком «Проезд без остановки запрещен».
- Со знаком «Уступите дорогу» или со знаком «Проезд без остановки запрещен».

1.12
Прил. № 2

7 На каком рисунке водитель правильно поворачивает направо?

1 2

8.7.3
«И»

8 Вы приближаетесь к нерегулируемому пешеходному переходу. Как Вы должны поступить в данной ситуации?

- Видя, что пешеходы заметили Вас, несколько увеличить скорость и побыстрее проехать пешеходный переход.
- Снизить скорость, а в случае необходимости остановиться, чтобы уступить дорогу пешеходам, для которых может быть создана помеха или опасность.

18.1

9 Разрешается ли водителю синего автомобиля приступить к обгону в данной ситуации?

- Разрешается.
- Запрещается.

14.2
«А»

10 На каких дорогах в населенных пунктах допускается скорость движения более 60 км/час?

- На дорогах, свободных от транспортных средств.
- На дорогах с односторонним движением.
- На дорогах, обозначенных соответствующими знаками.
- На всех вышеперечисленных дорогах.

12.8

Воспроизводить и тиражировать заочный тест без согласия издателя запрещено! Нарушение авторских прав преследуется по закону Украины! Свидетельство № 653 от 22.11.2000 г. ГАУ АСП



1 Что понимается под определением «Недостаточная видимость»?



1. Дождь, снегопад, сумерки.
2. Видимость менее 400 м.
3. Видимость дороги в направлении движения менее 300 м в сумерках, условиях тумана, дождя, снегопада и т. п.

1.10

2 Разрешается ли пешеходам переходить дорогу вне пешеходного перехода, если в зоне видимости отсутствует пешеходный переход или перекресток?

1. Запрещается.
2. Разрешается переходить дорогу, имеющую не более трех полос для движения в обоих направлениях под прямым углом к краю проезжей части в местах, где ее хорошо видно в обе стороны, и только после того, как пешеход убедится в отсутствии опасности.

4.8

3 Этот дорожный знак:



1. Запрещает играть с мячом детям и взрослым в зоне его действия.
2. Определяет зону, где в субботные, воскресные и праздничные дни разрешаются игры на проезжей части.
3. Информировывает водителей о въезде на территорию, где действуют особые условия, предусмотренные Правилами дорожного движения.

5.31
Прил. № 1

4 На каком расстоянии до начала опасного участка устанавливают эти знаки в населенных пунктах?



1



2



3



4



5

1. 15 - 25 м.
2. 25 - 50 м.
3. 50 - 100 м.
4. 100 - 150 м.
5. 150 - 300 м.

Прил. № 1

5 В каком направлении запрещено транзитное движение?



1. Только налево.
2. Только направо.
3. Прямо и налево.
4. Во всех направлениях.

3.1, 7.3.1
Прил. № 1

6 Разрешается ли пересекать прерывистую двойную линию разметки при выключении реверсивных светофоров?



1. Разрешается, если она расположена слева от водителя.
2. Разрешается, если она расположена справа от водителя.
3. Разрешается с любой стороны.
4. Запрещается.

1.9
Прил. № 2

7 В каком направлении разрешено движение?



1. Прямо и направо в первый проезд.
2. Направо в первый проезд.
3. Направо во второй проезд.
4. Направо в первый и второй проезды.

8.7.3 "Е"

8 Разрешается ли заезжать на полосу, обозначенную таким знаком при выполнении правого поворота?



1. Разрешается во всех случаях.
2. Запрещается.
3. Разрешается, если полоса не отделена от остальной проезжей части сплошной линией разметки.

17.2

9 Дайте полный ответ: в чем должен убедиться водитель, прежде чем начать обгон?

1. Ни один из водителей транспортных средств, которые двигаются за ним и которым может быть создано препятствие, не начал обгона.
2. Водитель транспортного средства, движущегося впереди по той же полосе, не подал сигнал о намерении поворота (перестроения) налево.
3. Полоса встречного движения, на которую он будет выезжать, свободна от транспортных средств на достаточном для обгона расстоянии.
4. После обгона он сможет, не создавая препятствий обгоняемому им транспортному средству, вернуться на занимаемую полосу.
5. Выполнить все перечисленные действия.

14.2

10 При выборе скорости движения водителю запрещается:

1. Только превышать скорость, указанную на опознавательном знаке, установленном на транспортном средстве в соответствии с Правилами дорожного движения.
2. Только резко тормозить, кроме случаев, когда без этого невозможно предотвратить дорожно-транспортное происшествие.
3. Запрещаются оба перечисленных действия.

12.9

11 Красный автомобиль проедет перекресток:



1. Первым.
2. Вторым.
3. Последним.

16.11
16.14


12 Автомобили проедут перекресток в следующем порядке:



1. Желтый выедет на перекресток и остановится, чтобы уступить дорогу зеленому, синий, красный.
2. Синий, красный, зеленый, желтый.
3. Зеленый, синий и красный, желтый.

16.12

13 Каким транспортным средствам разрешено движение при этом сигнале светофора?



1. Трамваю, желтому и красному автомобилям.
2. Желтому и красному автомобилям.
3. Всем транспортным средствам.

8.7.3
«Б»

14 Стоянка запрещается:

1. Ближе 20 метров от края пересекаемых проезжих частей.
2. Ближе 20 метров перед пешеходным переходом.
3. Ближе 30 метров перед пешеходным переходом.
4. В местах, где стоящее транспортное средство делает невозможным движение других транспортных средств или создает препятствие для движения пешеходов.
5. Во всех перечисленных случаях.

15.10
«Д»

15 Что обозначает данный опознавательный знак?



1. Впереди участок дороги, имеющий неровности на проезжей части.
2. Впереди участок дороги с тремя полосами для движения в данном направлении.
3. На механическом транспортном средстве установлены шины с шипами.

30.3
«Т»

16 В случае остановки колонны:

1. Водители всех транспортных средств должны включить аварийную световую сигнализацию.
2. Водители всех транспортных средств должны выйти из кабины автомобиля.
3. Водители всех транспортных средств должны выполнить оба действия.

25.5

17 Разрешается ли движение грузовых автомобилей по автомагистралям и дорогам для автомобилей далее второй полосы?

1. Разрешается, если их разрешенная максимальная масса не превышает 3,5 т.
2. Разрешается, если их разрешенная максимальная масса более 3,5 т.
3. Запрещается.

27.2
«Б»

18 Вы остановились на подъеме в ожидании разрешающего сигнала светофора. При этом удерживать автомобиль на месте лучше всего:

1. Стояночным тормозом.
2. За счет пробуксовки сцепления при включенной первой передаче.
3. Выключенным двигателем с установленной пониженной передачей.
4. Рабочим тормозом.

ОБД

19 Какая административная ответственность водителей предусмотрена за повторное в течении года уклонение от прохождения в соответствии с установленным порядком медицинского осмотра на состояние опьянения?

1. Штраф в размере 34-68 грн. или лишения права управления транспортным средством сроком от 3-х до 6 месяцев.
2. Штраф в размере 68-170 грн.
3. Штраф в размере 340-680 грн. с возмездным изъятием транспортного средства либо без такового или лишение права управления всеми видами транспортных средств на срок от 2-х до 3-х лет с возмездным изъятием транспортного средства либо без такового.

Ст.130,
ч.2

20 Разрешается ли проезд пассажиров в кузове грузового автомобиля, не оборудованного для их перевозки?

1. Разрешается на дорогах, не относящихся к автомагистралям.
2. Разрешается только лицам, сопровождающим груз или следующим за его получением, при условии обеспечения их оборудованным местом для сидения. Их число в кабине и кузове не должно превышать восьми человек.
3. Запрещается.

21.9



- 1** Водитель какого транспортного средства имеет преимущество на первоочередное движение?



1. Водитель дорожной машины.
2. Я – на легковом автомобиле.

3.6

- 2** Разрешается ли стоять в кузове грузового автомобиля при движении?

1. Разрешается только лицам, сопровождающим груз.
2. Запрещается.
3. Разрешается, если перевозки осуществляются в поле.
4. Разрешается, если борта кузова наращены на высоту не менее 0,8 м от уровня пола.

5.3
«Г»

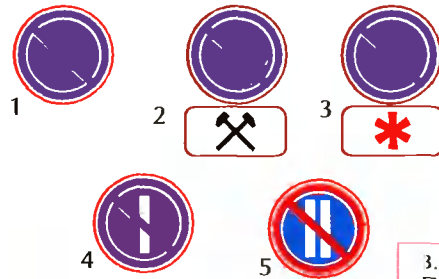
- 3** Этот дорожный знак предупреждает, что впереди:



1. Участок дороги с водной преградой, не имеющей моста или паромной переправы.
2. Участок дороги с водной преградой, на котором имеется разводной мост.
3. Место, где дорога выходит на набережную или берег какого-либо водоема.

1.8
Прил. № 1

- 4** Какой знак запрещает стоянку только по четным числам месяца?

3.37
Прил. № 1

- 5** Водители каких транспортных средств, осуществляя транзитное движение нарушили требование дорожного знака?



1. Водители мотоциклов.
2. Водители автомобиля и мотоцикла с боковым прицепом.
3. Только водитель автомобиля.
4. Водители всех транспортных средств.

3.2
Прил. № 1

- 6** Водители каких транспортных средств неправильно произвели остановку для высадки пассажиров?



1. Водитель легкового автомобиля.
2. Только водитель грузового автомобиля.
3. Только водитель мотоцикла.
4. Водители грузового автомобиля и мотоцикла.
5. Все водители.

1.10
Прил. № 2

- 7** Если регулировщик указывает рукой на транспортное средство, водитель должен:

1. Остановить транспортное средство в месте, на которое укажет регулировщик, с соблюдением правил остановки.
2. Увеличить скорость движения.
3. Принять правее и снизить скорость движения.

8.8
«Г»

- 8** Разрешается ли стоянка транспортных средств на правой полосе дороги, отделенной сплошной желтой линией разметки и обозначенной дорожным знаком «Полоса для движения маршрутных транспортных средств»?

1. Разрешается, если нет знака, запрещающего стоянку.
2. Запрещается.
3. Разрешается только автомобилям, которые обслуживают предприятия, находящиеся в этой зоне, или принадлежат гражданам, проживающим в ближайших домах.

17.1

- 9** По какой полосе разрешается движение грузовых автомобилей с разрешенной максимальной массой более 3,5 т в населенных пунктах?

1. Только по крайней правой полосе.
2. По любой полосе как можно ближе к правому краю проезжей части, однако, если для движения нерельсовых транспортных средств в одном направлении имеются три полосы и более, то на крайнюю левую полосу разрешается выезжать только для поворота налево, разворота и остановки на улицах с односторонним движением для погрузки или разгрузки.
3. Ответы № 1 и № 2 верны.

11.2,
11.6

- 10** С какой максимальной скоростью разрешается движение легковых автомобилей с прицепом на участке дорог, обозначенных таким дорожным знаком?



- | 1 | 2 | 3 | 4 | 5 |
|---------|---------|---------|----------|----------|
| 60 км/ч | 80 км/ч | 90 км/ч | 100 км/ч | 110 км/ч |

12.6
«А»



11 Транспортные средства проедут перекресток в следующем порядке:



1. Трамвай, белый а за ним синий автомобили.
2. Синий автомобиль, трамвай, а за ним - белый автомобиль.
3. Трамвай, синий автомобиль, белый автомобиль.

16.11
16.14

12 Автомобили проедут перекресток в следующем порядке:



1. Синий, желтый, зеленый.
2. Желтый, зеленый, синий.
3. Синий, зеленый, желтый.

16.12

13 Разрешается ли буксировка транспортным средством с прицепом?

1. Разрешается только на жесткой сцепке.
2. Запрещается.

23.10
«Д»

14 Стоянка запрещена:

1. Только вне населенных пунктов в зоне опасных поворотов и выпуклых переломов продольного профиля дороги с ее видимостью или обзорностью менее 100 м хотя бы в одном направлении движения.
2. Только на тротуарах, кроме мест, обозначенных соответствующими дорожными знаками, установленными с табличками.
3. Только во всех перечисленных случаях.
4. Во всех перечисленных случаях, а также на тротуарах, где для движения пешеходов остается менее 2 метров.

15.10
«Б», «Г»

15 Разрешается ли обучать управлению автомобилями (мотоциклами) без соответствующего опознавательного знака?

1. Разрешается при обучении в индивидуальном порядке.
2. Запрещается.
3. Разрешается на автомобилях (мотоциклах) индивидуального владельца.
4. Разрешается на мотоциклах и мопедах.

24.8

16 С органами Госавтоинспекции согласовывается движение транспортных средств размеры которых по высоте превышают от поверхности дороги:

1	2	3	4	5
5,0 м	4,5 м	4,0 м	2,5 м	3,8 м

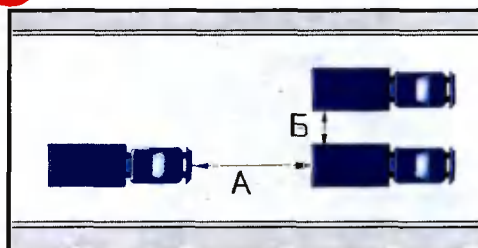
32.1
«М»

17 Разрешается ли движение на автомагистралях транспортным средствам, скорость которых по технической характеристике менее 40 км/час.

1. Разрешается только по крайней правой полосе.
2. Запрещается.
3. Разрешается при отсутствии знака «Ограничение минимальной скорости».

27.3


18 Что называется дистанцией?



1. Расстояние А.
2. Расстояние Б.
3. Расстояние А и Б.

ОБД

19 Какое освещение должно быть включено на автомобиле при встречном разъезде на неосвещенных участках дороги?



1. Габаритные огни.
2. Дальний свет фар.
3. Ближний свет фар.

19.2

20 Как правильно выбрать место наложения кровоостанавливающего жгута на конечности?

1. Ниже раны на 10-15 см.
2. Выше раны.
3. Непосредственно на рану.

М. Буянов
стр.94



1 Может ли лицо, имеющее временный регистрационный талон на право распоряжения транспортным средством, передавать управление транспортным средством в своем присутствии другому лицу?

1. Может.
2. Не может.
3. Может при наличии у этого лица водительского удостоверения на право управления транспортным средством соответствующей категории.

2.1
Примеч.

10.6

3 Разрешается ли водителю автобуса обгонять другие транспортные средства в зоне действия этого знака?



1. Разрешается во всех случаях с соблюдением правил обгона.
2. Запрещается.
3. Разрешается только при условии, если обгоняемое транспортное средство движется со скоростью менее 30 км/ч.

3.27
Прил. № 1

4 Какой знак запрещает движение транспортных средств с дистанцией между ними, меньше указанной на знаке?



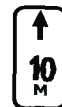
1



2



3



4



5

3.20
Прил. № 1

5 В каком направлении запрещено движение?



1. Направо в первый проезд.
2. Направо во второй проезд.
3. Направо в первый и второй проезды.

3.22
Прил. № 1

6 Какая из этих линий разметки используется для обозначения границ полос движения, на которых осуществляется реверсивное движение?



1. Линия 1.
2. Линия 2.
3. Линия 3.
4. Линии 2 и 3.
5. Линии 3 и 4.

1.9
Прил. № 2

7 Движение разрешено:



1. Красному автомобилю.
2. Мотоциклу.
3. Трамваю и красному автомобилю.
4. Трамваю.
5. Синему автомобилю.

8.8
«Б»

8 Разрешается ли в данной обстановке водителю красного автомобиля продолжать движение через пешеходный переход?



1. Разрешается.
2. Запрещается.

18.4

9 Когда транспортное средство должно двигаться по крайней правой полосе?

1. При перевозке тяжеловесных и крупногабаритных грузов.
2. Если водитель почувствовал болезненное состояние.
3. Если во время движения ослабло крепление груза.
4. Когда транспортное средство по техническим причинам не может превышать скорость 40 км/ч.

11.7

10 Разрешена ли буксировка механических транспортных средств грузовыми автомобилями на автомагистралях?

1. Разрешена со скоростью 60 км/ч.
2. Запрещена.
3. Разрешена только путем частичной погрузки или на жесткой сцепке.
4. Разрешена на гибкой сцепке.
5. Разрешена любым методом со скоростью от 40 до 50 км/ч.

12.7,
27.3



11 Транспортные средства проедут перекресток в следующем порядке:



1. Легковой автомобиль, автобус, велосипед.
2. Автобус, велосипед, легковой автомобиль.
3. Автобус, легковой автомобиль, велосипед.
4. Велосипед, автобус, легковой автомобиль.

16.11
16.13

12 Первым проедет перекресток:



1. Зеленый автомобиль.
2. Красный автомобиль.
3. Синий автомобиль.

16.12
16.13


13 Водитель какого транспортного средства должен уступить дорогу?



1. Водитель автомобиля.
2. Водитель трамвая.

16.9

14 Водитель какого автомобиля не нарушил правил стоянки?



1. Красного.
2. Желтого.
3. Оба нарушили.
4. Никто не нарушил.

15.3,
15.9 «Г»

15 На каком расстоянии от дорожной разметки "Стоп-линия" или знака "Проезд без остановки запрещен" должен остановиться водитель для пропуска приближающегося поезда?

1. 1,5 м.
2. 2,5 м.
3. 5 м.
4. 15 м.
5. Непосредственно у дорожной разметки "Стоп-линия" и (или) знака.

20.3

16 С какой скоростью вне населенных пунктов разрешается движение транспортных средств, осуществляющих перевозки тяжеловесных, крупногабаритных и опасных грузов?

1. Не более 40 км/ч.
2. Не более 60 км/ч.
3. Не более предписанной Госавтоинспекцией при согласовании условий перевозки.

32.1
«А»

17 Минимальное допускаемое Правилами дорожного движения значение остаточной высоты рисунка протектора шин грузовых автомобилей с разрешенной максимальной массой более 3,5 т составляет:

1	2	3	4	5
0,5 мм	1 мм	1,6 мм	2 мм	3 мм

31.4.5
«А»

18 Смещается ли прицеп автопоезда при движении на повороте?

1. Смещается в сторону от центра поворота.
2. Не смещается.
3. Смещается к центру поворота.

ОБД

19 Какая административная ответственность водителей предусмотрена за передачу управления транспортным средством лицу, находящемуся в состоянии опьянения?

1. Штраф в размере 255-340 грн. или лишение права управления транспортными средствами сроком от 1 года до 2 лет.
2. Исправительные работы.
3. Предупреждение или штраф в размере 510-680 грн.

Ст.130,
ч.1

20 На каком рисунке показано положение пострадавшего, в котором рекомендуется его транспортировать при открытом ранении брюшной полости?



1. Только на рисунке 1.
2. Только на рисунке 2.
3. На рисунках 1 и 2.

Неправильно выбранное положение при транспортировке может привести к преждевременной гибели пострадавшего!!!

"Я-водитель"



1 Кому водитель обязан предоставить транспортное средство независимо от направления своего движения?

1. Работникам дорожно-эксплуатационной службы.
2. Работникам милиции и здравоохранения для доставки в ближайшее лечебное учреждение лиц, нуждающихся в неотложной медицинской помощи.
3. Дружинникам.
4. Всем вышеперечисленным лицам.

2.6
«А»

2 В случае, когда траектории движения транспортных средств пересекаются, а очередность проезда не оговорена Правилами, дорогу должен уступить водитель:

1. Двигающийся с меньшей скоростью.
2. К которому транспортное средство приближается слева.
3. К которому транспортное средство приближается справа.

10.11

3 Этот дорожный знак запрещает движение:



1. Грузовых автомобилей-цистерн.
2. Транспортных средств, перевозящих вещества, загрязняющие воду.
3. Цементовозов.
4. Всех перечисленных транспортных средств.

3.14
Прил. № 1

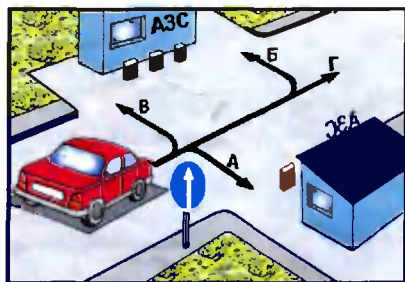
4 Эти знак и табличка, по Правилам дорожного движения, запрещают остановку транспортных средств кроме:



1. Только водителям - такси, если это связано с посадкой или высадкой пассажиров, или для выполнения настоящих Правил.
2. Только водителям - инвалидам, управляющим мотоколяской, или автомобилем, обозначенным опознавательным знаком "Инвалид".
3. Запрещается остановка транспортных средств, кроме тех, что указаны в ответах № 1 и № 2.
4. Запрещается остановка и стоянка водителям всех транспортных средств, в том числе и водителям - инвалидам.

3.34, 7.18
Прил. № 1
2.7

5 По каким направлениям из числа обозначенных стрелками разрешается движение?



1. Только по направлению А.
2. Только по направлению Б.
3. Только по направлению В.
4. Только по направлению А и Г.
5. Только по направлению Г.

4.1
Прил. № 1

6 На какое время можно остановиться у желтой прерывистой линии горизонтальной разметки?



1. На время до пяти минут.
2. На время, необходимое для посадки (высадки) пассажиров либо погрузки (разгрузки) груза.
3. Остановка запрещена.

1.10
Прил. № 2

7 Данный светофор запрещает движение трамваю:



1. Только налево.
2. Прямо и налево.
3. Прямо и направо.
4. Только направо.

8.7.5

8 Вы приближаетесь к нерегулируемому пешеходному переходу, перед которым остановилось транспортное средство. Вы должны:

1. Проехать пешеходный переход безостановочно.
2. Проехать пешеходный переход безостановочно, но с особой осторожностью.
3. Продолжить движение, лишь убедившись, что перед остановившимся транспортным средством нет пешеходов.
4. Обязательно остановиться. При появлении пешеходов пропустить их.

18.4

9 Разрешается ли движение по трамвайным путям при проезде перекрестка?

1. Запрещается.
2. Разрешается, только если не создаются помехи трамваю.
3. Разрешается только по трамвайным путям попутного направления.
4. Разрешается по трамвайным путям попутного направления, если количество полос и направление движения по ним не определены дорожным знаком «Направление движения по полосам». При этом не должны создаваться препятствия для движения трамвая.

11.8

10 Каким транспортным средствам запрещается движение вне населенных пунктов со скоростью более 70 км/час?

1. Транспортным средствам, которыми управляют водители со стажем до двух лет.
2. Только грузовым автомобилям с разрешенной максимальной массой менее 3,5 т.
3. Легковым автомобилям, управляемым водителями с водительским стажем 3 года.

12.6
«Б»



11 Красный автомобиль:

1. Имеет преимущество в движении, так как приблизился к перекрестку равнозначных дорог справа от синего автомобиля.

2. Должен уступить дорогу синему, движущемуся по дороге с круговым движением.

16.12

12 Автомобили проедут перекресток в следующем порядке:

1. Желтый въедет на перекресток и остановится, чтобы уступить дорогу синему; зеленый; синий; красный; желтый.

2. Синий; красный; зеленый; желтый.

3. Зеленый; синий; желтый.

16.12
16.13

13 Водители каких транспортных средств проедут перекресток первыми?

1. Водители автомобиля и автобуса.

2. Водитель трамвая.

16.9

14 Водители каких транспортных средств не нарушили правила стоянки вне населенного пункта?

1. Водитель легкового автомобиля.

2. Водитель грузового автомобиля.

3. Оба водителя нарушили.

15.3

15 Разрешается ли движение через железнодорожный переезд, если включен запрещающий сигнал светофора?

1. Запрещается.

2. Разрешается, если приближающийся поезд находится на достаточно далеком расстоянии и на переезде отсутствует шлагбаум.

20.5 "В"

16 С органами Госавтоинспекции согласовывается движение транспортных средств, размеры которых по длине превышают:

1	2	3	4	5
16 м	18 м	20 м	22 м	24 м

32.1
«Д»

17 При каких из перечисленных условий по Правилам дорожного движения запрещается эксплуатация грузового автомобиля с разрешенной максимальной массой свыше 3,5т.?

1. Не работают стеклоочистители.

2. Неисправна система выпуска отработанных газов.

3. Не работает предусмотренный конструкцией механизм регулировки положения сидения водителя.

4. Отсутствуют противооткатные упоры.

5. При всех перечисленных условиях.

31.4

18 В каком случае центробежная сила при повороте уменьшается?

1. При резком повороте рулевого колеса в сторону поворота.

2. При снижении скорости движения.

3. При уменьшении радиуса поворота.

ОБД

19 Как должен поступить водитель при неисправности габаритных или стояночных огней на транспортном средстве на неосвещенных участках дорог в темное время суток и в условиях недостаточной видимости?

1. Поставить транспортное средство как можно правее на обочине дороги.

2. Отвести транспортное средство за пределы дороги.

19.3

20 Разрешается ли перевозить детей до 16 лет в кузове грузового автомобиля?

1. Разрешается при наличии двух взрослых сопровождающих.

2. Разрешается в кузове грузового автомобиля с разрешенной максимальной массой до 3,5 т.

3. Разрешается в обоих случаях.

4. Запрещается.

21.11
"В"



1 Если на грунтовой дороге непосредственно перед перекрестком имеется участок дороги с покрытием, то делает ли это ее равной по значению с пересекаемой?

1. Нет.
2. Да.

1.10
"Главная
дорога"

2 В поле, на сельскохозяйственных работах, траектории движения грузового автомобиля и трактора пересекаются. Кто должен уступить дорогу?

1. Водитель грузового автомобиля водителю трактора.
2. Водитель трактора водителю грузового автомобиля.
3. Водитель, к которому транспортное средство приближается справа.
4. Водитель, находящийся справа.

10.11

3 Как должен поступить водитель, если его транспортное средство не может продолжать движение на подъем со скоростью равной или более 40 км/час?



1. Продолжать движение по основной полосе, если за ним нет других транспортных средств.
2. Перестроиться на дополнительную полосу.
3. Продолжать движение по основной полосе, если длина подъема не превышает 300 м.

5.20.2
Прил. № 1

4 Какая из указанных табличек распространяет действие знака "Место для стоянки" на легковые автомобили, а также на грузовые автомобили с разрешенной максимальной массой до 3,5 т?



А



Б

1. Табличка А.
2. Табличка Б.
3. Обе таблички.

7.5.3, 7.6.3
Прил. № 1

5 В каком направлении разрешается движение легкового автомобиля?



1. Только налево и направо.
2. Только прямо.
3. Во всех направлениях движение разрешено.

4.11, 7.3.3
Прил. № 1

6 Перед Вами две сплошные линии разметки — слева и справа. Разрешается ли их пересекать?



1. Запрещается пересекать обе линии.
2. Запрещается пересекать только левую линию. Правую разрешается пересекать, так как она обозначает край проезжей части и смежна с обочиной.

1.1
Прил. № 2

7 Каким транспортным средствам разрешено движение?



1. Зеленому, синему и черному автомобилям.
2. Красному, желтому и зеленому автомобилям.
3. Зеленому, синему и красному автомобилям. Красный должен дать возможность пешеходам закончить переход.

8.8
«Б»

8 В каком случае Правила дорожного движения не требуют подачи предупреждающего сигнала?

1. Перед остановкой у края проезжей части.
2. Перед закруглением дороги, обозначенным знаком «Опасный поворот направо».
3. Перед перестроением на соседнюю полосу движения.

9.4

9 Вы решили выполнить обгон. Посмотрев в зеркало заднего вида, Вы поняли, что следующий за Вами водитель начал Вас обгонять. Ваши дальнейшие действия?

1. Включить левый указатель поворота и, пользуясь благоприятным расположением на проезжей части, приступить к маневру.
2. Дать возможность себя обогнать, включить левый указатель поворота и затем приступить к маневру.

14.2

10 С какой максимальной скоростью разрешается движение автобусам на автомагистралях?

1	2	3	4	5
70 км/ч	80 км/ч	90 км/ч	100 км/ч	110 км/ч

12.6
«А»



11 Третьим проедет перекресток:



1. Желтый автомобиль.
2. Красный автомобиль.
3. Синий автомобиль.
4. Зеленый автомобиль.

16.11
16.14

12 Остановка запрещена:

1. Только на мостах, эстакадах и путепроводах.
2. Только под мостами, эстакадами и путепроводами.
3. Во всех перечисленных случаях.

15.9
"Б"

13 Каким методом разрешается буксировка легкового автомобиля с неисправным двигателем?

1. Только на гибкой сцепке.
2. Только на жесткой сцепке.
3. Только методом частичной погрузки.
4. Любым вышеуказанным методом.
5. Только на жесткой или гибкой сцепке.

23.4

14 Разрешается ли остановка в этом месте?



1. Разрешается.
2. Запрещается.

15.9
"Г"

15 Как обозначается груз или выступающие за габариты части транспортного средства в темное время суток и в условиях недостаточной видимости?

1. Сигнальными щитками или флажками (с нанесением по диагонали красными и белыми чередующимися полосами).
2. Световозвращающими приспособлениями или фонарями: спереди белого, сзади красного, сбоку оранжевого цвета.
3. Флажками: сзади красными, спереди белыми.

30.3
"А"

16 Первым проедет перекресток:



1. Красный автомобиль.
2. Синий автомобиль.
3. Черный автомобиль.

16.9

17 Запрещается эксплуатация транспортных средств с изъятием номерных знаков при наличии следующих технических неисправностей и условий:

1. Не горит левая фара в режиме ближнего света.
2. Не работают стеклоочистители.
3. Отсутствуют подголовники, где их установка предусмотрена конструкцией.
4. При всех перечисленных неисправностях и условиях.

31.4.3 «В»
31.4. Прим.

18 Что должен делать водитель автомобиля для прекращения начавшегося заноса задней оси заднеприводного автомобиля?



1. Повернуть рулевое колесо в сторону, противоположную заносу.
2. Повернуть рулевое колесо в сторону начавшегося заноса.

ОБД

19 Противотуманные фары можно использовать в условиях недостаточной видимости:

1. Только отдельно от ближнего или дальнего света фар.
2. Только с ближним или дальним светом фар.
3. Как отдельно, так и с ближним или дальним светом фар.

19.5

20 На каком рисунке показано положение пострадавшего, в котором рекомендуется его транспортировать при явном повреждении позвоночника в безсознательном состоянии?



1. На рисунках 1 и 2.
2. Только на рисунке 1.
3. Только на рисунке 2.

Неправильно выбранное положение при транспортировке может привести к преждевременной гибели пострадавшего!!!

"Я-ВОДИТЕЛЬ"



1 Что должен учитывать водитель при определении наибольшей ширины полосы движения автопоезда?

1. Только габариты автопоезда по ширине.
2. Габариты транспортного средства по ширине, а также влияние прицепа и смещение его к центру поворота.

1.10
11.1

2 Должен ли водитель уступить дорогу другим транспортным средствам при перестроении?

1. Должен, - транспортному средству движущемуся попутно по той полосе, на которую он намерен перестроиться..
2. Не должен.
3. Должен во всех случаях при взаимном перестроении.

10.3

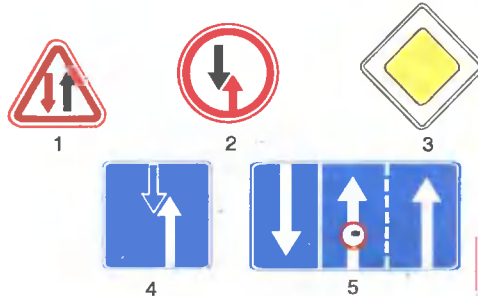
3 Разрешается ли проезд без остановки через карантинный пост, перед которым установлен данный знак?



1. Разрешается, если открыт шлагбаум.
2. Разрешается, если возле шлагбаума отсутствует дежурный.
3. Запрещается.
4. Разрешается во время дождя и тумана.

3.41
Прил. № 1

4 Какой знак предоставляет водителю преимущество по отношению к встречным транспортным средствам?



2.6
Прил. № 1

5 В каком направлении разрешается движение?



1. Только налево.
2. Прямо, налево и разворот.
3. Направо или налево.
4. Только прямо.

5.10.2
Прил. № 1

6 Сколько полос для движения имеет дорога, где транспортные потоки противоположных направлений разделяются двойными сплошными линиями?



1. Две полосы.
2. Две или три полосы.
3. Три полосы.
4. Четыре или более полос.

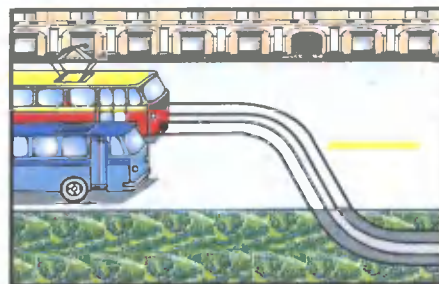
1.3
Прил. № 2

7 Сигналы регулировщика:

1. Не имеют преимущества перед сигналами светофора.
2. Не имеют преимущества перед требованиями постоянно установленных дорожных знаков.
3. Не имеют преимущества перед требованиями дорожной разметки желтого цвета.
4. Имеют преимущество перед сигналами светофоров, требованиями дорожных знаков и дорожной разметки, и являются обязательными для исполнения.

8.3

8 Должен ли водитель автобуса, движущийся по установленному маршруту, уступать дорогу в данной ситуации?



1. Должен.
2. Не должен.
3. Не должен, так как он движется прямо.

17.3

9 В каких случаях Правила дорожного движения разрешают обгон на перекрестке?

1. Когда обгоняются транспортные средства, движущиеся со скоростью до 30 км/ч.
2. Когда обгоняются двухколесные транспортные средства без бокового прицепа.
3. Когда выполняется обгон по главной дороге.
4. Во всех перечисленных случаях.
5. Только в случаях, указанных в ответах 2 и 3.

14.6
«А»

10 Разрешается ли водителю междугородного автобуса вне населенных пунктов превышать скорость 70 км/час?

1. Разрешается только при движении по дороге, имеющей две и более полосы для движения в данном направлении.
2. Разрешается до 80 км/ч.
3. Разрешается до 90 км/ч.
4. Запрещается.

12.6
«А»



11 Третьим проедет перекресток :



1. Синий автомобиль.
2. Желтый автомобиль.
3. Зеленый автомобиль.
4. Красный автомобиль.

16.11
16.13

12 Синий автомобиль проедет перекресток:



1. Первым.
2. Вторым.
3. Третьим.

3.2
16.12
16.13

13 Светофор работает в режиме мигания сигнала жёлтого цвета. Разрешается ли Вам проезда перекрёстка без остановки перед знаком "Проезда без остановки запрещен"?



1. Запрещается.
2. Разрешается при отсутствии на пересекаемой дороге транспортных средств.

2.2,
Прил. № 1,
16.1

14 Где разрешается остановка и стоянка транспортных средств вне населённого пункта?

1. Только в специально отведенных местах.
2. Только на правой обочине дороги при отсутствии специально отведенных мест.
3. Только на правой стороне проезжей части дороги, но так, чтобы не препятствовать движению других транспортных средств, если отсутствует правая обочина.
4. Только на левой стороне дороги, но с соблюдением мер по безопасности движения.
5. В местах, указанных в ответах № 1,2,3.

15.1
15.2

15 С какого возраста разрешается обучаться управлению автомобилем?

- | | | | |
|----------|----------|----------|----------|
| 1 | 2 | 3 | 4 |
| с 14 лет | с 15 лет | с 16 лет | с 18 лет |

24.2

16 Что должен сделать водитель для перевозки груза в светлое время суток, если он выступает за заднюю точку габарита транспортного средства более чем на 2 метра?

1. Только обозначить груз сигнальными шитками или флажками.
2. Получить в Госавтоинспекции разрешение на движение транспортного средства и обозначить груз сигнальными шитками или флажками.

30.3 «А»,
32.1 «М»

17 При каких условиях запрещается эксплуатация механических транспортных средств?

1. Перебои в работе двигателя.
2. Шум в коробке передач.
3. Не прошедших государственный периодический технический осмотр в установленном порядке, или не имеющих талона о его прохождении.
4. При условиях, перечисленных в ответах 1, 2, 3.

31.3
«Б»

18 Двигаясь со скоростью около 60 км/час, Вы внезапно попали на небольшой участок дороги с гололеда. Что следует предпринять в данной ситуации?



1. Не меняя положения рулевого колеса и скорости движения, проехать скользкий участок дороги.
2. Не меняя положения рулевого колеса, выключить передачу и двигаться накатом.

ОБД

19 При движении в туннелях Правила дорожного движения обязывают водителя:

1. Включить аварийную световую сигнализацию.
2. Двигаться со скоростью не более 40 км/ч.
3. Подавать звуковой сигнал.
4. Включить ближний (дальний) свет фар.

19.1

20 Как оказать первую медицинскую помощь при попадании бензина в желудок?

1. Принять обильное питье и активированный уголь. Выпить кофе, чай или молоко.
2. Для нейтрализации бензина принять алкоголь.
3. Выполнить действия, указанные в ответах 1 и 2.

"Я-водитель"



1 Могут ли пешеходы двигаться по велосипедным дорожкам при отсутствии тротуара или пешеходной дорожки.

1. Могут.
2. Могут, держась правой стороны, не затрудняя движение на велосипедах и мопедах.
3. Не могут.

4.1

2 Что обязан сделать водитель перед перестроением и другим изменением направления движения?

1. Убедиться, что данный маневр будет безопасным и он не создаст препятствий или опасности другим участникам движения.
2. Подать звуковой сигнал.
3. Переключить свет фар.
4. Выполнить все указанные действия.

10.1

3 В зоне действия данного знака:



1. Запрещается остановка транспортных средств.
2. Ограничивается продолжительность стоянки транспортных средств.
3. Запрещается стоянка транспортных средств без оплаты.

3.38
Прил. № 1

4 Какой знак называется «Объезд препятствия с левой стороны»?



1



2



3




4



5

4.8
Прил. № 1


5 Разрешен ли обгон в этом месте?



1. Разрешен.
2. Запрещен.
3. Разрешен, только при условии, что скорость обгоняемого менее 30 км/ч.

3.25, 7.1.1
Прил. № 1


6 Разрешается ли произвести обгон в данной обстановке?



1. Разрешается.
2. Запрещается.
3. Разрешается, если обгоняемое транспортное средство движется со скоростью менее 30 км/ч.
4. Разрешается, если обгоняемое транспортное средство движется со скоростью менее 10 км/ч.

1.3
Прил. №2

7 Движение разрешено:



1. Сине-желтому автомобилю - налево.
2. Сине-желтому автомобилю - прямо, красному автомобилю - прямо и направо.
3. Только красному автомобилю.

8.8
"Д"

8 Что обязан выполнить водитель?

1. Проехать трамвайную остановку с особой осторожностью.
2. Остановиться, чтобы уступить дорогу пешеходам, которые идут к (или) от трамвая. Возобновлять движение разрешается только после того, как пешеходы покинут проезжую часть и у трамвая закроются двери.



18.8

9 Разрешен ли обгон водителю красного автомобиля? Мотоциклист выполняет объезда.



1. Разрешен.
2. Запрещен.

14.6
"Д"

10 Что должен учитывать водитель при выборе скорости движения?

1. Только особенности перевозимого груза и состояние транспортного средства.
2. Только дорожную обстановку.
3. Все перечисленные факторы.

12.1

11 Транспортные средства проедут перекресток в следующем порядке:



1. Белый автомобиль, трамвай, зеленый, синий автомобиль.
2. Трамвай, белый, синий, зеленый автомобиль.
3. Трамвай, белый, зеленый, синий автомобиль.

16.11
16.14

12 Транспортные средства проедут перекресток в следующем порядке:



1. Трамвай 1 и 2, красный, зеленый, желтый, синий автомобили.
2. Трамвай 1, красный автомобиль, зеленый автомобиль, трамвай 2, желтый автомобиль, синий автомобиль.


16.11
16.14

13 Не более какого расстояния между транспортными средствами должна обеспечивать жесткая сцепка при буксировке механического транспортного средства?

- | | | | | |
|-----|-----|-----|-----|-----|
| 1. | 2. | 3. | 4. | 5. |
| 2 м | 3 м | 4 м | 5 м | 6 м |

23.3

14 Разрешается ли остановка в указанном месте?



1. Разрешается.
2. Запрещается.

15.3

15 В каком ответе наиболее полно перечислены требования Правил дорожного движения для лиц, обучающихся управлению автомобилем:

1. Должны иметь возраст не менее 16 лет.
2. При управлении автомобилем обязаны всегда иметь при себе документ, удостоверяющий их возраст.
3. Обязаны знать и выполнять требования настоящих Правил дорожного движения.
4. Выполнить все вышеперечисленные требования.

24.2,
24.3

16 С органами Госавтоинспекции согласовывается движение транспортного средства, если его груз выступает за пределы заднего габарита больше чем на:

- | | | | | |
|-------|-------|-------|-------|-------|
| 1 | 2 | 3 | 4 | 5 |
| 1,0 м | 1,5 м | 2,0 м | 2,5 м | 4,0 м |

32.1
«Д»

17 Разрешается ли эксплуатация транспортного средства без подголовников, если их установка предусмотрена конструкцией?

1. Разрешается в любом случае.
2. Запрещается.
3. Разрешается, если подголовники находятся в ремонте.

31.4.7
«К»

18 Применение торможения двигателем на скользкой дороге для заднеприводного автомобиля:

1. Повышает устойчивость автомобиля.
2. Снижает устойчивость автомобиля.
3. Не оказывает какого-либо влияния на устойчивость автомобиля.

ОБД

19 Какая административная ответственность водителей предусмотрена за эксплуатацию автотранспортных средств, у которых содержание загрязняющих веществ в выбросах, а также уровень шума, производимого ими при работе, превышают установленные нормативы?

1. Конфискация предмета, явившегося орудием совершения административного правонарушения.
2. Штраф в размере 85—102 грн.
3. Штраф в размере 17—51 грн.

Ст.81

20 В медицинской аптечке транспортного средства имеется "Анальгин". Он применяется при:

1. Радикулите.
2. Головной боли.
3. Пищевом отравлении.
4. В случаях, указанных в ответах 1 и 2.

Содержание Вашей аптечки в очень нужный момент сохранит жизнь Вам и Вашим пассажирам!!!

"Я-водитель"



1 Что обязан выполнить водитель перед выездом с места постоянной стоянки и началом движения?

1. Только проверить и обеспечить технически исправное состояние и комплектность транспортного средства.
2. Только убедиться, что начало движения будет безопасным и он не создаст помех другим участникам движения.
3. Только подать сигнал световым указателем поворота соответствующего направления.
4. Выполнить все перечисленные действия.

2.2,
10.1

2 Водителю какого транспортного средства разрешено движение задним ходом?



1. Водителю грузового автомобиля.
2. Водителю легкового автомобиля.
3. Водителям обоих автомобилей.
4. Водителям обоих автомобилей движение задним ходом запрещено.

10.10

3 Какие транспортные средства запрещает обгонять этот знак?



1. Все.
2. Все, кроме одиночных, движущихся со скоростью менее 30 км/ч.
3. Только легковые автомобили, мотоциклы и грузовые автомобили с разрешенной максимальной массой менее 3,5 т.
4. Только грузовые автомобили с разрешенной максимальной массой более 3,5 т.

3.25
Прил. № 1

4 Какой знак указывает обязательное направление движения на перекрестке?



1



2



3



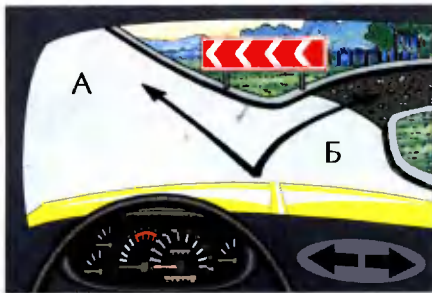
4



5

4.3
Прил. № 1

5 По какому пути разрешено движение?



1. А.
2. Б.
3. А и Б.

1.4.2
Прил. № 1

6 Что обозначает такая дорожная разметка?



1. Указывает номер дороги (маршрута).
2. Указывает расстояние до ближайшего населенного пункта.
3. Указывает расстояние до ближайшего поста ГАИ.
4. Дублирует "Километровый знак".

1.22
Прил. № 2

7 Чем должен руководствоваться водитель, когда значение временных дорожных знаков и линий разметки противоречат друг другу?

1. Линиями разметки.
2. Временными дорожными знаками.

8.2

8 В каком ответе указан правильный вариант включения световых приборов на буксируемом транспортном средстве?

1. Ближний свет фар в темное время суток или в условиях тумана.
2. Аварийная световая сигнализация.
3. Габаритные огни в населенных пунктах.
4. Любое освещение на дорогах вне населенных пунктов.

9.9
"Г"

9 Обгон запрещается:

1. На перекрестках, за исключением случаев обгона на регулируемых перекрестках.
2. На перекрестках, за исключением тех случаев, когда обгон совершается по дороге, являющейся главной по отношению к пересекаемой.
3. На перекрестках, кроме случаев, когда обгоняются двухколесные транспортные средства без бокового прицепа.
4. Во всех перечисленных случаях.

14.6
«А»

10 Какой водитель нарушил требования Правил дорожного движения?

1. Водитель, который двигался в жилой зоне со скоростью 30 км/ч.
2. Водитель, который пересек сплошную узкую линию разметки, обозначающую край проезжей части дороги, смежную с обочиной..
3. Оба нарушили.
4. Никто не нарушил.

1.1
Прил. № 2
12.5



11 Вторым проедет перекресток:



1. Зеленый автомобиль.
2. Красный автомобиль.
3. Синий автомобиль.

16.11
16.13

12 Первым проедет перекресток:



1. Красный автомобиль.
2. Синий автомобиль.
3. Желтый автомобиль.
4. Зеленый автомобиль.

16.12
16.13

13 В каких случаях при буксировке механических транспортных средств водитель может или должен не находиться за рулем буксируемого транспортного средства?

1. Во всех случаях при буксировке на жесткой сцепке.
2. Только при буксировке на жесткой сцепке, когда ее конструкция обеспечивает буксируемому транспортному средству повторение траектории движения буксирующего транспортного средства независимо от поворотов.
3. Только при буксировке с частичной погрузкой буксируемого транспортного средства на платформу или специальное опорное приспособление.
4. В случаях, указанных в ответах № 2 и 3.

23.5

14 Какие транспортные средства поставлены на стоянку вне населенных пунктов с нарушением Правил дорожного движения?



1. Только А.
2. Только Б.
3. Только В.
4. Б и В.
5. А и Б.

15.2
15.3

15 В каких случаях перевозимый груз должен быть обозначен сигнальными штитами или флажками, а в темное время суток и в условиях недостаточной видимости световозвращающими приспособлениями или фонарями?

1. Если груз выступает за габариты транспортного средства спереди или сзади более чем на 1 м.
2. Если груз выступает за габариты транспортного средства сзади на 0,8 м.

22.4

16 С Госавтоинспекцией согласовывается движение колонны, если в ней минимальное количество механических транспортных средств свыше:

1	2	3	4	5
20	15	10	7	5

32.1
«К»

17 При каких условиях запрещается эксплуатация транспортных средств?

1. Только нарушена регулировка фар.
2. Только не горит левая фара в режиме ближнего света.
3. Только на световых приборах используются лампы, не соответствующие типу данных световых приборов.
4. При всех перечисленных условиях.

31.4.3

18 Во сколько раз увеличивается тормозной путь при увеличении скорости в два раза?

1. Величина тормозного пути не зависит от скорости движения.
2. В три раза.
3. В четыре раза.
4. В два раза.

ОБД

19 Фарой-прожектором разрешается пользоваться:

1. Только водителям автомобилей оперативных и специальных служб при выполнении служебных заданий, приняв меры, чтобы не ослеплять других участников дорожного движения.
2. Только в условиях недостаточной видимости.
3. В любых местах, если в этом есть необходимость.
4. В темное время суток на всех участках дорог.

19.6

20 Запрещается ли перевозка детей на переднем сидении легкового автомобиля?

1. Разрешается перевозка детей в возрасте не моложе 10 лет.
2. Запрещается перевозить детей, ростом менее 145 см, или не достигших 12-летнего возраста при отсутствии специального детского сидения.
3. Разрешается независимо от возраста при наличии взрослого пассажира.

21.11
«Б»



1 Как должен поступить водитель легкового автомобиля в ситуации, показанной на рисунке, услышав специальный звуковой сигнал и увидев транспортное средство с синим и красным проблесковыми маячками?



1. Продолжать движение по своей полосе проезжей части.
2. Снизить скорость.
3. Остановиться у тротуара.
4. Уступить дорогу и обеспечить безопасный его проезд.

3.2

2 Разворот запрещается:

1. Ближе 15 м от перекрестка.
2. На нерегулируемых перекрестках, если на пересекаемой дороге организовано одностороннее движение.
3. На пешеходных переходах и ближе 10 м от них с обеих сторон, кроме случая разрешенного разворота на перекрестке.
4. Во всех перечисленных случаях.

10.7
«Д»

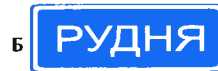
3 Этот дорожный знак:



1. Разрешает движение только с указанной или большей скоростью.
2. Запрещает движение со скоростью, превышающей указанную на знаке.
3. Указывает скорость, с которой рекомендуется движение на данном участке дороги.

4.16
Прил. № 1


4 Отличаются ли между собой требования этих знаков?



1. Отличаются тем, что при знаке А действуют требования настоящих Правил, определяющие порядок движения в населенных пунктах, а на дороге, на которой установлен знак Б, не действуют требования настоящих Правил, определяющих порядок движения в населенных пунктах.
2. Отличаются тем, что знак А устанавливается перед областными и районными центрами, а знак Б перед населенными пунктами, не относящимися к областным и районным центрам.
3. Оба знака называются «Начало населенного пункта» и поэтому ничем не отличаются.

5.45, 5.47
Прил. № 1

5 Водитель какого транспортного средства должен уступить дорогу?



1. Водитель трактора.
2. Водитель автобуса.

2.6
Прил. № 1

6 Что обозначает желтая сплошная линия дорожной разметки?

1. Границу полосы для движения маршрутных транспортных средств.
2. Край проезжей части на автомагистралях.
3. Разделение транспортных потоков противоположных направлений на дорогах, имеющих четыре и более полос для движения.

1.2
Прил. № 2

7 Движение запрещено:



1. Всем транспортным средствам.
2. Мотоциклу.
3. Автомобилю и трамваю.

8.8
«А»

8 Что Вы, как водитель, обязаны выполнить в случае вынужденной остановки на данном участке дороги вне населенного пункта?



1. Включить аварийную световую сигнализацию.
2. Установить знак аварийной остановки на расстоянии, обеспечивающем безопасность движения, но не ближе 40 м до транспортного средства.
3. Выполнить оба действия.

9.10
«Б»

9 Разрешается ли выполнить обгон в данной ситуации?



1. Запрещается, так как данный участок дороги с недостаточной видимостью.
2. Разрешается в любом случае, соблюдая меры безопасности.
3. Разрешается, если стеклоочиститель со стороны расположения руля исправен.

14.6
«Г»

10 С какой максимальной скоростью разрешается движение мотоциклам на участках дорог, обозначенных таким дорожным знаком?



1. 100 км/ч.
2. 90 км/ч.
3. 80 км/ч.
4. 70 км/ч.
5. 60 км/ч.

12.6
«А»



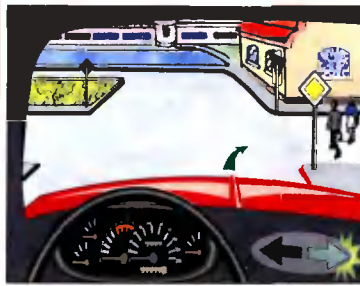
11 Транспортные средства проедут перекресток в следующем порядке:



1. Зеленый, красный, синий автомобили.
2. Зеленый, синий, красный автомобили.
3. Синий, красный, зеленый автомобили.
4. Красный, зеленый, синий автомобили.

16.11
16.14

12 Как Вы должны поступить в показанной ситуации?



1. Уступить дорогу пешеходам, заканчивающим переход проезжей части соответствующего направления движения.
2. Подать звуковой сигнал для предотвращения дорожно-транспортного происшествия и, не уступая дорогу пешеходам, проехать переход, так как Вы находитесь на главной дороге.

16.2

13 Водитель какого транспортного средства имеет преимущество в движении?



1. Вы—водитель автомобиля.
2. Водитель трамвая.

16.7

14 Водителю какого автомобиля разрешена остановка?



1. Обоим водителям.
2. Остановка запрещена водителям обоих транспортных средств.
3. Водителю легкового автомобиля.
4. Водителю грузового автомобиля.

15.9
«Б»

15 Разрешается ли учебная езда на участках дорог, обозначенных таким знаком?



1. Разрешается только на легковом автомобиле при достаточных навыках обучаемого.
2. Разрешается при движении по первой полосе проезжей части.
3. Запрещается.

24.9

16 Разрешается ли на легковом автомобиле двигаться с включенными только габаритными огнями в темное время суток?

1. Разрешается.
2. Запрещается. Разрешается только с включенными фарами ближнего (дальнего) света.
3. Разрешается на хорошо освещенных улицах.

19.1

17 Дальнейшее движение транспортных средств запрещается, если:

1. Не действует стеклоочиститель со стороны расположения руля во время дождя или снегопада.
2. Не работают в установленном режиме или загрязнены внешние световые приборы или световозвращатели.
3. Не работают предусмотренные конструкцией транспортных средств стеклоомыватели.
4. Во всех перечисленных случаях.

31.6

18 Как влияет утомление на внимание и реакцию водителя?

1. Не влияет на внимание и реакцию водителя.
2. Внимание и реакция водителя снижаются.
3. Внимание и реакция водителя повышаются.

ОБД

19 Какая административная ответственность водителей предусмотрена за нарушение Правил дорожного движения, которое повлекло повреждение транспортных средств, грузов, дорог, дорожных сооружений или другого имущества?

1. Штраф в размере 17—68 грн. или лишение права управления транспортным средством на срок от 3 до 6 месяцев.
2. Штраф в размере 68—85 грн. или лишение права управления транспортным средством на срок от 6 месяцев до 1 года.
3. Штраф в размере 34—102 грн.
4. Исправительные работы.

Ст.124

20 На каком рисунке показано положение пострадавшего, в котором рекомендуется его транспортировать при ранении конечностей? Пострадавший находится в сознании.



1



2

1. Только на рисунке 1.
2. Только на рисунке 2.
3. На рисунках 1 и 2.

Неправильно выбранное положение при транспортировке может привести к преждевременной гибели пострадавшего!!!

«Я-водитель»



1 Что по Правилам дорожного движения обозначает термин «Обгон»?

1. Опережение одного или нескольких транспортных средств, движущихся в соседней полосе с меньшей скоростью.
2. Опережение одного или нескольких транспортных средств, связанное с выездом из занимаемой полосы движения и последующим возвращением на ранее занимаемую полосу. Обгон может быть как с выездом на полосу встречного движения, так и без выезда.
3. Опережение одного или нескольких транспортных средств, связанное с выездом на полосу встречного движения.

1.10

2 На территории двора траектории движения транспортных средств пересекаются. Кто должен уступить дорогу?

1. Водитель легкового автомобиля водителю грузового автомобиля, перевозящего молоко.
2. Водитель мотоцикла водителю легкового автомобиля.
3. Водитель, к которому транспортное средство приближается справа.
4. Водитель, к которому транспортное средство приближается по более узкой полосе движения.

10.11

3 Сплошная желтая линия горизонтальной разметки в сочетании со знаком «Остановка запрещена» разрешает остановку:

1. Всем транспортным средствам, производящим высадку пассажиров.
2. Автобусам и троллейбусам.
3. Автобусам, троллейбусам и автомобилям такси.
4. Только маршрутным транспортным средствам.

3.34
Прил. № 1

4 Что обозначает табличка под знаком?



1. Расстояние от знака до начала первого поворота.
2. Расстояние от первого поворота до начала второго поворота.
3. Протяженность участка дороги с опасными поворотами.

7.2.1
Прил. № 1

5 Разрешается ли повернуть направо на данном перекрестке?

1. Запрещается. Разрешается только водителям маршрутных транспортных средств.
2. Запрещается. Разрешается только водителям легковых автомобилей, выполняющим неотложное служебное задание.
3. Запрещается в любом случае.

4.5
Прил. № 1

6 Такая горизонтальная дорожная разметка обозначает:



1. Сужение проезжей части, где уменьшается количество полос движения в данном направлении.
2. Место, где водитель должен при необходимости остановиться, уступая дорогу транспортным средствам, движущимся по пересекаемой дороге.
3. Приближение к месту, где запрещена остановка.

1.13
Прил. № 2


7 Каким транспортным средствам разрешено движение?



1. Легковому и грузовому автомобилям.
2. Мотоциклу, легковому и грузовому автомобилям.
3. Легковому автомобилю и мотоциклу.

8.8
«Б»

8 В каком положении должен быть выключен предупреждающий сигнал указателя левого поворота по требованию Правил дорожного движения?



1. В положении А.
2. В положении Б.
3. В положении В.

9.4

9 Когда запрещается выезжать на сторону дороги, предназначенную для встречного движения?

1. На дорогах с двусторонним движением, имеющих не менее двух полос для движения в одном направлении.
2. На дорогах с двусторонним движением, имеющих четыре полосы для движения, при наличии дорожной разметки в виде двух сплошных линий, разделяющей транспортные потоки противоположных направлений.
3. Во всех перечисленных случаях.

11.4


10 С какой максимальной скоростью допускается движение легковых автомобилей с прицепом на автомагистралях?

1	2	3	4	5
110 км/ч	100 км/ч	90 км/ч	80 км/ч	70 км/ч

12.6
«А»




11 Транспортные средства проедут перекресток в следующем порядке:



1. Мотоцикл, трамвай, автомобиль.
2. Трамвай, мотоцикл, автомобиль.
3. Трамвай, автомобиль, мотоцикл.

16.11
16.14

12 Автомобили проедут перекресток в следующем порядке:



1. Красный, зеленый, синий.
2. Синий, красный, зеленый.
3. Красный, синий, зеленый.

16.12

13 Какая максимальная общая длина сцепленных транспортных средств (кроме маршрутных) допускается Правилами дорожного движения при буксировке?

1.	2.	3.	4.	5.
20 м	21м	22м	23м	24м

23.10
"В"

14 Остановка запрещена:



1. Перед пешеходным переходом за 5 м.
2. На пешеходных переходах и ближе 10 м от них с обеих сторон.
3. За пешеходным переходом остановка разрешена.

15.9
«В»

15 Сигналом, запрещающим движение через железнодорожный переезд, является положение дежурного, обращенного к водителю:

1. Левым или правым плечом с поднятым над головой жезлом (красным флажком).
2. Грудью или спиной с поднятым над головой жезлом (красным флажком) или вытянутыми в стороны руками.
3. Любым плечом или грудью с поднятым над головой жезлом (красным флажком).

20.5
«А»

16 Согласно Правилам дорожного движения, встречный разъезд необходимо выполнить исключительно таким образом, чтобы:

1. Транспортные средства находились только слева один от другого.
2. В зависимости от скорости движения, водители придерживались интервала от одного до трех метров.
3. Водители легковых автомобилей уступали дорогу водителям маршрутных транспортных средств, если встречный разъезд затруднен.
4. Водители придерживались только безопасного интервала.
5. Были выполнены требования в ответах 1 и 4.

13.3

17 При каких из перечисленных условий запрещается эксплуатация автомобилей и автопоездов?

1. Нарушена герметичность гидравлического тормозного привода.
2. Стояночная тормозная система обеспечивает неподвижное состояние транспортных средств с полной нагрузкой на уклоне 17%.
3. В обоих случаях.

31.4.1
"В", "Д"

18 Как влияет торможение «юзом» на тормозной путь при сухом состоянии дороги?

1. Тормозной путь уменьшается.
2. Тормозной путь не изменяется.
3. Тормозной путь увеличивается.

ОБД

19 Когда водитель должен переключить дальний свет на ближний, если он может ослепить других водителей? Не менее чем:

1. За 100 м до встречного транспортного средства.
2. За 250 м до встречного транспортного средства, а также тогда, когда он может ослепить других водителей, в частности тех, которые движутся в попутном направлении.
3. За 150 м до встречного транспортного средства.
4. За 300 м до встречного транспортного средства.

19.2

20 Каким водителям разрешается перевозка людей (до 8 человек, кроме водителя) в кузове грузового автомобиля?

1. Наиболее дисциплинированным и опытным водителям, имеющим удостоверение на право управления транспортным средством категории «С».
2. Водителям, имеющим стаж управления транспортным средством более трех лет и удостоверение водителя транспорта категории «С».

21.4



1 Как должны поступить водители попутных и встречных транспортных средств, если при движении по дороге, на которой отсутствует разделительная полоса, приближается специальное транспортное средство, на котором включены одновременно проблесковые маячки красного цвета?

1. Продолжать движение по своей полосе.
2. Снизить скорость и принять вправо.
3. Остановиться у правого края проезжей части (на правой обочине) и возобновить движение лишь после проезда замыкающего колонну транспортного средства с включенными проблесковыми маячками синего и зеленого цвета.

3.2
3.3

2 В каких местах запрещено движение задним ходом?

1. На горных дорогах.
2. На мостах, путепроводах, эстакадах.
3. Во всех перечисленных местах.

10.10

3 Этот дорожный знак запрещает движение транспортных средств, перевозящих:



1. Крупногабаритные грузы.
2. Опасные грузы.
3. Контейнеры.
4. Металлоконструкции.
5. Все вышеперечисленные грузы.

3.12
Прил. № 1

4 Разрешается ли остановка с левой стороны на дорогах, обозначенных данными знаками?



А

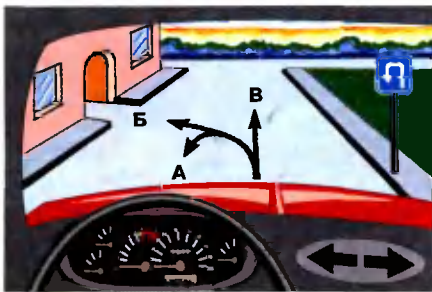


Б

1. Разрешается при знаке А.
2. Разрешается при знаке Б.
3. Разрешается при знаке А и Б.
4. Запрещается.

5.45, 5.47
Прил. № 1

5 Этот знак запрещает Вам движение в направлении:



1. В.
2. Б и В.
3. Б.
4. А и В.

5.26
Прил. № 1

6 Разрешается ли производить высадку пассажиров в месте, где нанесена по верху бордюра тротуара сплошная желтая линия в сочетании со знаком «Остановка запрещена»?



1. Разрешается.
2. Запрещается.
3. Разрешается в отсутствии маршрутных транспортных средств.
4. Разрешается только маршрутным транспортным средствам.

1.4
Прил. № 2

7 О чем информируют черные контурные стрелки на красном и желтом сигналах светофора?



1. О разрешенных направлениях движения при включении зеленого сигнала светофора.
2. О разрешенных направлениях движения при красном и желтом сигналах светофора.

8.7.3
«3»

8 Как Вы должны поступить, поворачивая направо в показанной ситуации?



1. Использовать преимущественное право, подать звуковой сигнал и продолжать движение в намеченном направлении.
2. Снизить скорость движения и следовать с особой осторожностью.
3. Уступить дорогу пешеходам, переходящим проезжую часть.

18.2

9 В каких из указанных мест запрещен обгон?

1. На железнодорожных переездах и ближе, чем за 100 м перед ними.
2. На железнодорожных переездах и ближе, чем за 100 м от них.
3. На железнодорожных переездах и ближе, чем за 100 м от них вне населенных пунктов, а также 50 м в населенных пунктах.

14.6
«Б»

10 С какой максимальной скоростью разрешается движение грузовых автомобилей с разрешенной максимальной массой не более 3,5 т на участках дорог, не отнесенных по условиям движения к «Дорогам для автомобилей» и обозначенных таким дорожным знаком?



1. 110 км/ч
2. 100 км/ч
3. 90 км/ч
4. 70 км/ч
5. 60 км/ч

12.6
«Г»



11 Вторым проедет перекресток:



1. Зеленый автомобиль.
2. Красный автомобиль.
3. Синий автомобиль.
4. Желтый автомобиль.

16.11
16.14

12 Кто из водителей имеет право на первоочередное движение?



1. Водитель мотоцикла.
2. Вы — водитель автомобиля.

16.12

13 Разрешается ли перевозить людей при буксировке на гибкой или жесткой сцепке в буксируемом механическом транспортном средстве?

1. Разрешается в автобусе и троллейбусе.
2. Разрешается в кабине грузового автомобиля и в легковом автомобиле.
3. Разрешается в легковом и грузовом автомобилях.
4. Разрешается только в легковом автомобиле.
5. Запрещается.

23.8

14 В условиях недостаточной видимости стоянка вне населенного пункта разрешается:



1. Как можно правее на обочине.
2. Только на площадках для стоянки или за пределами дороги.
3. В местах, указанных в ответах № 1 и № 2.

15.11

15 Как обозначается в светлое время суток негабаритный груз, который выступает за габариты транспортного средства?

1. Сигнальными шитками или флажками (с нанесенными по диагонали красными и белыми чередующимися полосами).
2. Красными флажками спереди и сзади.
3. Световозвращающими приспособлениями: спереди — белого цвета, сзади — красного, сбоку — оранжевого цвета.

30.3
«Л»

16 В каких из перечисленных случаев должны быть включены противотуманные фары?

1. Только в условиях недостаточной видимости.
2. Только при движении в колонне в условиях недостаточной видимости.
3. В случаях, указанных в ответах 1 и 2.

9.8 "а"
19.5

17 В каком из перечисленных случаев разрешается эксплуатация транспортных средств?

1. Шины по размеру и допустимой нагрузке не соответствуют модели транспортного средства.
2. На одну ось транспортного средства установлены диагональные шины совместно с радиальными.
3. На переднюю ось легкового автомобиля установлены шины, восстановленные по первому классу ремонта.

31.4.5
«Ж»

18 В каких из перечисленных случаев водитель может недооценить собственную скорость движения и превысить ее?

1. Если вдоль дороги, по которой он движется, отсутствуют деревья, дома, заборы.
2. На дорогах вне населенных пунктов, если водитель длительное время движется с высокой, но разрешенной скоростью.
3. На улицах с многополосным движением.
4. Во всех перечисленных случаях.
5. В случаях, указанных в ответах 1 и 2.

ОБД

19 Разрешается ли движение механическим транспортным средствам с дальним светом фар на освещенных участках дороги в темное время суток?

1. Разрешается только при движении с большой скоростью.
2. Разрешается.
3. Разрешается только при выполнении неотложного служебного задания.

19.1

20 На каком рисунке показано положение пострадавшего, в котором рекомендуется его транспортировать при шоке?



1. На рисунках 1 и 2.
2. Только на рисунке 1.
3. Только на рисунке 2.

Неправильно выбранное положение при транспортировке может привести к преждевременной гибели пострадавшего!!!

«Я-водитель»



1 Водитель какого транспортного средства выполняет обгон на дороге с односторонним движением?



1. Водитель зеленого автомобиля.
2. Водитель синего автомобиля.
3. Оба водителя выполняют правильно, если убедились в безопасности маневра.
4. Водители зеленого и синего автомобилей выполняют опережение, а не обгон.

1.10
«Обгон»

2 Разворот запрещается:

1. На проезжей части с трамвайными путями.
2. На эстакадах.
3. Во всех перечисленных местах.

10.7
«Б»

3 Каким грузовым автомобилям разрешается продолжать движение при этом знаке?



1. Автомобилям с пассажирами в специально оборудованном кузове.
2. Автомобилям, перевозящим продукты в кузове-фургоне.
3. Автомобилям с надписью «Связь».

3.3
Прил. № 1


4 Что означает этот знак с табличкой?



1. Разрешают стоянку всех транспортных средств способом, указанным на табличке.
2. Разрешают стоянку только легковых автомобилей и мотоциклов, указанным на табличке способом.
3. Разрешают стоянку только легковых автомобилей, мотоциклов и грузовых автомобилей, разрешенная максимальная масса которых до 3,5 т, указанным на табличке способом.

5.38, 7.6.1
Прил. № 1

5 Разрешена ли стоянка автомобиля в этом месте?



1. Разрешена.
2. Запрещена.

3.35
Прил. № 1

6 О чем предупреждает такая разметка?



1. О приближении к месту остановки маршрутных транспортных средств.
2. О приближении транспортных средств к «стоп-линии», когда она применяется в сочетании со знаком «Проезд без остановки запрещен».
3. Указывает место, где транспортное средство должно уступить дорогу пешеходу.

1.21
Прил. № 2

7 Движение разрешено:



1. Красному автомобилю.
2. Мотоциклу.
3. Трамваю и красному автомобилю.
4. Трамваю.
5. Синему автомобилю.

8.8
«Б»

8 Когда в соответствии с Правилами дорожного движения следует закончить подачу предупреждающего сигнала рукой?

1. Непосредственно перед началом выполнения маневра.
2. Немедленно после завершения маневра.
3. Во время выполнения маневра.

9.4

9 Разрешается ли движение транспортных средств по тротуарам и пешеходным дорожкам, если нет других подъездов?

1. Разрешается, если это не затруднит движение пешеходов.
2. Запрещается, так как это поставит под угрозу безопасность пешеходов.
3. Разрешается при обслуживании торговых и других предприятий, расположенных непосредственно у этих тротуаров или пешеходных дорожек.
4. Разрешается для объезда стоящего у тротуара другого транспортного средства.

11.13

10 Если на транспортном средстве установлен опознавательный знак «Ограничение максимальной скорости», то водителю этого транспортного средства:

1. Разрешается превышать указанную на знаке скорость только на участке дорог, где скорость движения повышена установкой соответствующего дорожного знака.
2. Разрешается превышать указанную на знаке скорость только при обгоне.
3. Запрещается превышать указанную на знаке скорость.

12.9
«Б»



11 Какой автомобиль последним проедет перекресток?



1. Синий.
2. Красный.
3. Зеленый.

16.11
16.14

12 Водитель какого транспортного средства имеет право на первоочередное движение?



1. Красный автомобиль, так как он выезжает на перекресток справа от синего автомобиля.
2. Синий автомобиль, так как он едет по дороге с круговым движением.

16.12

13 Каким методом разрешается буксировка транспортного средства с неисправным рулевым управлением?

1. Методом частичной погрузки.
2. На жесткой сцепке.
3. Обоиими вышеуказанными методами.
4. На жесткой или гибкой сцепке.

23.4

14 Какие транспортные средства допускается ставить на стоянку в два ряда на проезжей части?

1. Мотоциклы без бокового прицепа, мопеды и велосипеды.
2. Мотоциклы с боковым прицепом.
3. Легковые автомобили, обозначенные опознавательным знаком «Инвалид».
4. Грузовые автомобили с разрешенной максимальной массой менее 3,5 т, обслуживающие торговые и другие предприятия, расположенные непосредственно у тротуаров.

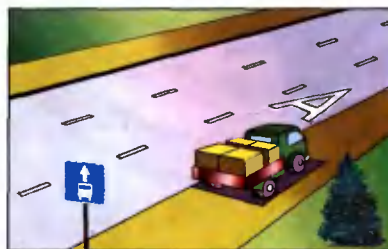
15.4

15 Запрещается обучение управлению транспортными средствами на:

1. Только в жилой зоне, автомагистралях и дорогах для автомобилей.
2. Только других дорогах, перечень которых устанавливается Госавтоинспекцией.
3. Только на дорогах с трамвайными путями.
4. Только на всех вышеперечисленных дорогах.
5. Только на дорогах, указанных в ответах №1 и №2.

24.9

16 Разрешена ли остановка водителю грузового автомобиля для выгрузки груза?



1. Разрешается остановиться как можно правее.
2. Запрещается.

17.2

17 В случае обнаружения негерметичности топливной системы, водитель обязан:

1. Прекратить дальнейшее движение.
2. Принять меры к устранению неисправности, а если это невозможно, следовать к месту стоянки или ремонта с соблюдением необходимых мер предосторожности.
3. Продолжить намеченную поездку.


31.5

18 Для прекращения начавшегося заноса автомобиля нужно повернуть рулевое колесо в сторону заноса. Сразу же после прекращения заноса необходимо:

1. Начать экстренное торможение.
2. Повернуть рулевое колесо в обратную сторону.
3. Выключить сцепление и двигаться накатом.

ОБД

19 При движении в темное время суток на освещенных участках дорог на механическом транспортном средстве должен быть включен:



1. Ближний свет фар (противотуманные фары) или габаритные огни.
2. Дальний свет фар или габаритные огни.
3. Ближний или дальний свет фар.

19.1
«А»

20 Разрешается ли перевозить детей на мотоцикле без бокового прицепа?

1. Разрешается.
2. Разрешается детей старше 12-летнего возраста или ростом более 145 см.
3. Разрешается при наличии взрослого пассажира.
4. Запрещается.

21.11
«Б»



1 Для обеспечения безопасности дорожного движения водитель в пути обязан:

1. Следить за техническим состоянием только тормозной системы и рулевого управления транспортного средства.
2. Следить за техническим состоянием транспортного средства.

2.2
«Б»

2 Когда водитель должен уступить дорогу пешеходам?

1. Только при выезде на дорогу из дворов.
2. Только при съезде с дороги во двор.
3. Только при выезде на дорогу с автозаправочных станций.
4. Только при выезде на дорогу с мест стоянки.
5. Во всех перечисленных случаях.

10.2


3 Что означает этот знак?



1. Предоставляет преимущество перед встречными транспортными средствами.
2. Обязывает водителя уступить дорогу встречным транспортным средствам.
3. Показывает окончание участка дороги с односторонним движением.

2.5
Прил. № 1


4 Какой знак называется «Выезд велосипедистов»?



1 2 3 4 5

1.34
Прил. № 1

5 В каком направлении запрещено транзитное движение?



1. Налево и направо.
2. Прямо и в обратном направлении.
3. Только прямо.
4. Во всех направлениях.

3.1, 7.3.3
Прил. № 1

6 Кто из водителей правильно произвел остановку для высадки пассажиров?



1. Водители синего и красного автомобилей.
2. Водитель мотоцикла.
3. Только водитель синего автомобиля.
4. Все водители.

1.10, 1.17
Прил. № 2

7 Каким транспортным средствам разрешается движение?



1. Только автобусу.
2. Автобусу, красному и зеленому автомобилям.
3. Только зеленому автомобилю.
4. Только автобусу и зеленому автомобилю.


8.8
«Б»

8 Должен ли водитель пропускать слепых пешеходов, подающих сигнал тростью белого цвета, направленной вперед?

1. Должен во всех случаях, в том числе и вне пешеходных переходов.
2. Должен на регулируемом пешеходном переходе.
3. Должен на нерегулируемом пешеходном переходе.
4. Должен на любом пешеходном переходе.

18.5

9 При интенсивном движении, разрешается ли менять полосу, по которой Вы движетесь?



1. Разрешается только для поворота, разворота или остановки.
2. Разрешается только на перекрестках.
3. Запрещается.

11.11

10 С какой максимальной скоростью разрешается движение автобусам на участках дорог, обозначенных таким дорожным знаком?



1 2 3 4 5

50 км/ч 60 км/ч 70 км/ч 80 км/ч 90 км/ч

12.6
«А»

Воспроизводить и тиражировать задачи этого билета категорически запрещено! Нарушение авторских прав преследуется по закону Украины! Свидетельство № 653 от 22.11.2000 г. ГАУ АСП




11 Первым проедет перекресток:



1. Зеленый автомобиль.
2. Синий автомобиль.
3. Красный автомобиль.
4. Желтый автомобиль.

16.11
16.13

12 Разрешается ли водителю желтого автобуса, выехать на перекресток?



1. Разрешается.
2. Запрещается.
3. Разрешается, если он движется по установленному маршруту.


16.4

13 Перед началом буксировки водители механических транспортных средств должны:

1. Согласовать порядок подачи сигналов, в частности, для остановки транспортных средств.
2. Выбрать в зависимости от наличия имеющегося буксира метод буксировки.
3. Выполнить требования, указанные в ответах № 1 и 2.

23.7

14 Разрешается ли стоянка автомобиля в этом месте?



1. Разрешается.
2. Запрещается.

15.3

15 Владельцы механических транспортных средств и прицепов к ним должны зарегистрировать (перерегистрировать) их в Госавтоинспекции независимо от технического состояния с момента приобретения (получения), таможенного оформления, а также переоборудования или ремонта, если необходимо внести изменения в регистрационные документы, в течение:

- | 1 | 2 | 3 | 4 | 5 |
|---------|---------|----------|----------|----------|
| 2 суток | 5 суток | 10 суток | 15 суток | 30 суток |

30.1

16 В каких случаях разрешается использовать звуковой сигнал в населенных пунктах?

1. При обгоне.
2. Для предотвращения дорожно-транспортного происшествия.
3. В случаях, указанных в ответах 1 и 2.

9.5

17 Разрешена ли остановка на автомагистралях и дорогах для автомобилей?

1. Запрещена.
2. Разрешается в местах, где автомагистраль или дорога для автомобилей хорошо просматривается.
3. Разрешается, если имеются три полосы для движения в одном направлении.
4. Разрешается на специальных площадках для стоянки, обозначенных знаком «Место для стоянки» или «Место отдыха».

27.2
«В»

18 Чем угрожает для безопасности движения резкое открытие дроссельной заслонки карбюратора при движении на скользкой дороге?

1. Двигатель заглохнет.
2. Значительно возрастает расход топлива.
3. Может возникнуть боковой занос автомобиля.
4. Двигатель превысит максимальную частоту вращения коленчатого вала.

ОБД

19 Какие внешние световые приборы должны быть включены на транспортном средстве при вынужденной остановке на неосвещенных участках дорог в темное время суток и в условиях недостаточной видимости?

1. Ближний свет фар и освещение номерного знака.
2. Габаритные или стояночные огни и аварийная световая сигнализация (разрешается включить ближний свет фар или противотуманные фары и задние противотуманные фонари).
3. Задние габаритные фонари.

19.4

20 На каком рисунке показано положение пострадавшего, в котором рекомендуется его транспортировать при ранении головы? Пострадавший находится в сознании.



1. Только на рисунке 1.
2. Только на рисунке 2.
3. На рисунках 1 и 2.

Неправильно выбранное положение при транспортировке может привести к преждевременной гибели пострадавшего!!!

«Я-водитель»



1 Что дополнительно должны предпринять пешеходы при движении по дорогам в темное время суток и в условиях недостаточной видимости?

1. Идти, по возможности придерживаясь правой стороны по ходу движения транспортных средств.
2. Принять меры для того, чтобы четко выделить себя на проезжей части или обочине.
3. Выполнить оба действия.

4.4

2 Разрешается ли пассажирам отвлекать внимание водителя от управления транспортным средством?

1. Разрешается.
2. Разрешается только для покупки разовых талонов в маршрутных транспортных средствах.
3. Запрещается.

5.3
«А»

3 Такой знак предупреждает, что впереди обочина:



1. Только повышенная.
2. Только заниженная.
3. Только разрушенная.
4. Только на которой выполняются ремонтные работы.
5. Все указанные опасности характерны для требований такого знака.

1.15
Прил. №1

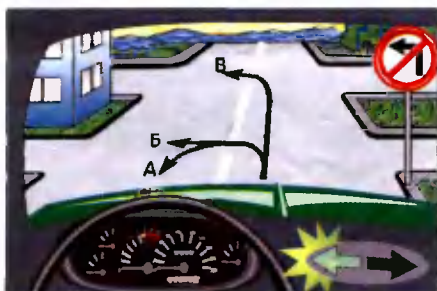
4 Разрешается ли водителю-инвалиду, управляющему автомобилем, обозначенным опознавательным знаком «Инвалид», остановиться в зоне действия этого знака с табличкой?



1. Разрешается.
2. Запрещается.

2.7


5 По какому пути из числа обозначенных стрелками разрешено движение?



1. А и Б.
2. Б и В.
3. А и В.

3.23
Прил. № 1


6 Какая из этих линий обозначает остановку маршрутных транспортных средств?



1. А.
2. Б.
3. В.
4. А и Б.
5. Б и В.

1.17
Прил. № 2

7 Каким транспортным средствам разрешено движение при таком сигнале светофора?



1. Трамваю и мотоциклу.
2. Мотоциклу, легковому и грузовому автомобилям.
3. Легковому и грузовому автомобилям.
4. Всем транспортным средствам

8.7.3
"Б"

8 Обязан ли водитель подавать предупреждающий сигнал перед перестроением?



1. Только в населенном пункте, если сзади него движется другое транспортное средство.
2. Во всех случаях необходимо заблаговременно до начала маневра, но не менее чем за 50—100 м в населенных пунктах и за 150—200 м вне их.

9.4

9 Водителю обгоняемого транспортного средства:



1. Разрешается использовать свое преимущество, двигаясь по своему усмотрению
2. Запрещается препятствовать обгону путем повышения скорости или иными действиями.

14.3

10 С какой максимальной скоростью разрешается движение грузового автомобиля на обычных дорогах вне населенных пунктов?

1. 40 км/ч.
2. 50 км/ч.
3. 60 км/ч.
4. 80 км/ч.
5. Не более 90 км/ч.

12.6,
23.10



11 Черный автомобиль проедет перекресток:



- 1. Первым.
- 2. Вторым.
- 3. Последним.

3.2
16.13

12 Укажите очередность проезда перекрестка:



- 1. Автобус, грузовой автомобиль, гужевая повозка.
- 2. Автобус, гужевая повозка, грузовой автомобиль.

16.12

13 Какое расстояние между транспортными средствами должна обеспечить гибкая сцепка при буксировке?

- | | | | | |
|-------|-------|-------|-------|-------|
| 1 | 2 | 3 | 4 | 5 |
| 1-3 м | 2-4 м | 3-6 м | 4-6 м | 4-8 м |

23.3

14 Разрешается ли стоянка легковому автомобилю в показанной ситуации?



- 1. Разрешается.
- 2. Запрещается.

15.10
"Д"

15 При запрещающем сигнале светофора и открытом шлагбауме на железнодорожном переезде водитель должен:

- 1. Лично убедиться в отсутствии приближающегося поезда и проехать через переезд.
- 2. Проехать через переезд, руководствуясь положением шлагбаума.
- 3. Остановиться не ближе 10 м от шлагбаума.
- 4. Остановиться перед дорожной разметкой "стоп-линия", дорожным знаком "Проезд без остановки запрещен", светофора или шлагбаума.

20.3

16 Разрешается ли водителям мопедов и велосипедов двигаться по тротуарам и пешеходным дорожкам?

- 1. Запрещается, кроме детей до 7-летнего возраста на детских велосипедах под присмотром взрослых.
- 2. Запрещается водителям мопедов, а водителям велосипедов разрешается.
- 3. Разрешается на дорогах с одной полосой для движения в каждом направлении.

6.7 "в"

17 При каких условиях по Правилам дорожного движения запрещается дальнейшее движение транспортных средств даже к месту ремонта?

- 1. Подтекает жидкость из системы гидравлического привода тормозов.
- 2. Не действует рабочая тормозная система.
- 3. Компрессор не обеспечивает установленного давления в системе пневматического привода тормозов.
- 4. При всех указанных условиях.

31.6

18 Какой автомобиль более устойчив к опрокидыванию?

- 1. Незагруженный грузовой автомобиль.
- 2. Грузовый автомобиль.

ОБД

19 Фарой-прожектором разрешается пользоваться:

- 1. Только водителям автомобилей оперативных и специальных служб при выполнении служебных заданий, приняв меры к тому, чтобы не ослеплять других участников дорожного движения.
- 2. Только в условиях недостаточной видимости.
- 3. В любых местах, если в этом есть необходимость.
- 4. В темное время суток на всех участках дорог.
- 5. Во всех перечисленных случаях.

19.6

20 Разрешается ли перевозка людей на грузовом прицепе?

- 1. Разрешается.
- 2. Разрешается только лицам, сопровождающим груз.
- 3. Запрещается.

21.11
"А"